

Collège de Blidette

Année Scolaire : 2019 / 2020

Date : Le 10/11/2019

**Devoir de Contrôle 1**

**GESTION**

PROF : Aben.S

**3ème Economie-Gestion**

Durée : 2H

- ↗ Le devoir comporte deux pages.
- ↗ Aucun document n'est autorisé.
- ↗ Une bonne présentation est exigée.
- ↗ Tous les calculs doivent figurer sur la copie.

### Question de cours : (4,5 points)

Quels sont les objectifs de la fonction d'approvisionnement ? **Expliquez.**

- ♣ *Minimiser le coût d'approvisionnement c'est à dire acheter au prix le plus bas possible*
- ♣ *Assurer la bonne qualité qui dépend largement de la qualité de ses composantes.*
- ♣ *Assurer la continuité des approvisionnements selon les besoins c'est à dire entretenir des relations stables avec les fournisseurs.*
- ♣ *Assurer la sécurité des approvisionnements. c'est à dire éviter la rupture des stocks et garantir les conditions de stockage .*
- ♣ *Assurer la flexibilité c'est à dire l'entreprise doit choisir les fournisseurs qui s'adaptent à l'évolution de ses besoins tout en améliorant ses relations avec ses fournisseurs.*
- ♣ *Assurer le respect des délais de livraison pour assurer la régularité des livraisons et la fiabilité du fournisseur.*

### Exercice n°1 : (6 points)

L'entreprise « BBM » a réalisé les opérations suivantes au cours du mois de juin de l'année N :

Le 08/06, achat de marchandises par chèque bancaire de 1 400 D.

Le 14/06, payé une prime d'assurance en espèces de 350 D.

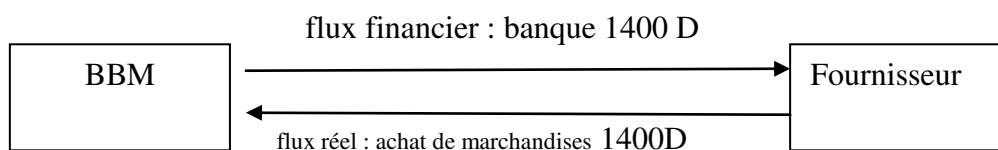
Le 19/06, vente des marchandises pour 2 500 D à payer après 30 jours.

Le 25/06, achat des fournitures de bureau en espèces pour 120 D.

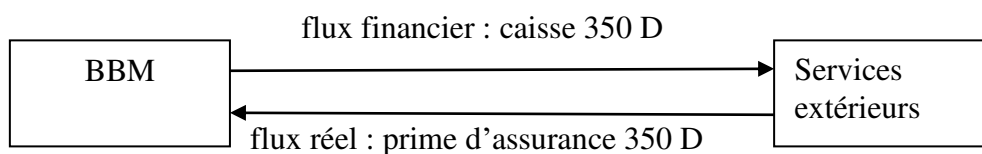
**Travail à faire :**

- 1- Schématisez les deux premières opérations.
- 2- Enregistrez les deux dernières opérations dans les comptes en T.
- 3- Analysez les opérations ci-dessus en emploi et ressource.
- 4- Que constatez-vous après avoir calculer les totaux des flux économiques ?  
Quel principe doit être respecté ?


**1. 08/06/N**



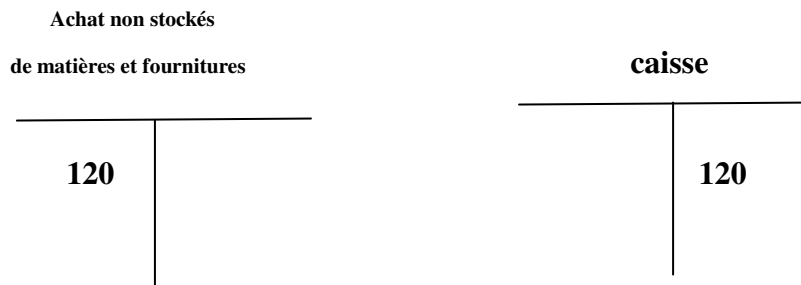
**14/06/N**



**2. 08/06/N**



**14/06/N**



### 3.

Date	Operations	Emploi		Ressources	
		Destination	Montant	Destination	Montant
08/06/N	achat de marchandises	achat de marchandises	1 400	Banque	1 400
14/06/N	payé une prime d'assurance	Services extérieurs	350	Caisse	350
19/06/N	vente des marchandises	Client	2 500	vente des marchandises	2 500
25/06/N	achat des fournitures de bureau	Achat non stockés de matières et fourniture	120	Caisse	120
<b>Totaux</b>			<b>4370</b>		<b>4370</b>

4-on constate que le **Total des emplois = Total des ressources**

**Le principe respecté c'est le principe de la partie double.**

### Exercice n°2 : (9,5 points)

Samir, Majdi et Sami, trois amis intimes ont décidé de créer une société de personne

« SMS Jouet » spécialisée dans la fabrication des jouets en bois.

Le 01/02/N, ils effectuent les apports suivants :

- Apport Samir :

Une camionnette 25 000 D

Dépôt dans un compte courant bancaire 10 000 D

- Apport Majdi :

Une machine 25 000 D

Des équipements pour les bureaux 5 000 D

Des espèces en caisse 5 000 D

- Apport Sami :

Une construction évaluée à 35 000 D

Le 02/03/N, achat du bois pour un montant de 2 000 D en espèces. Facture n°824.

Le 05/05/N, Acquisition des équipements pour les bureaux d'un montant de 3 500 D par chèque bancaire n°1215.

Le 09/07/N, vente des jouets pour 7 000 D par chèque bancaire n°7744.

Le 12/09/N, paiement des frais de téléphone de 250 D en espèces. PC n°39.

Le 15/10/N, achat du bois pour 3 200 D à payer après 60 jours. Facture n°828.

Le 10/11/N, règlement d'un montant de réparation de 150 D en espèces. PC n°43.

Le 15/12/N, paiement d'une partie de sa dette envers le fournisseur soit 2 200 D par chèque bancaire n°1225.

Le 24/12/N, Acquisition d'une deuxième machine à un prix d'achat 20 000 D HT TVA 18%, remise de 2%, escompte de 1%, port de 700 D HT TVA 12%, installation de 200 D HT TVA 18%, le prix TTC payé par chèque bancaire n°1235 et les frais TTC sont payés en espèces. Facture n°153.

**Travail faire :**

1. Quelle est la nature de l'activité de cette entreprise ? quelle est sa forme juridique ?  
**C'est une entreprise industrielle. Sa forme juridique : c'est une société de personnes.**
2. Déterminez le capital de la société en précisant les apports en nature et les apports en numéraire.

$$\text{Le capital} = 25\ 000 + 10\ 000 + 25\ 000 + 5\ 000 + 5\ 000 + 35\ 000 = 105\ 000\ \text{D}$$

Apport en nature	Montant	Apport en numéraire	Montant
Une camionnette	25 000 D	Dépôt dans un compte courant bancaire	10 000
Une machine	25 000 D	Des espèces en caisse	5 000 D
Des équipements pour les bureaux	5 000 D		
Une construction évaluée à	35 000 D		

3. Passez les opérations ci-dessus au journal de l'entreprise sans oublier de présenter la facture n°153 et de calculer le coût réel d'acquisition de la deuxième machine.

		02/03/N		
601	54	Achat stockés de matières et fournitures  Caisse Achat du bois contre espèces	2 000	2000
		05/05/N		
2282	532	Equipement de bureau  Banque Acquisition des équipements pour les bureaux contre chèque bancaire	2 000	2 000
		09/07/N		
532	707	Banque  Vente de marchandises Vente des jouets contre chèque bancaire	7 000	7 000
		12/09/N		
62	54	Autres Services extérieurs  Caisse Paiement des frais de téléphone contre espèces	250	250
		15/10/N		
601	401	Achat stockés de matières et fournitures  F <sup>TS</sup> d'exploitation Achat du bois à payer après 60 jours	3 200	3 200

61	54	10/11/N	150	150
		Services extérieurs		
401	532	Caisse	2 200	2 200
		règlement d'un montant de réparation contre espèces		
223 4366	532 54 75	15/12/N	20 500 3 577,44	22665.44 1020 392
		Frs d'exploitation		
		Banque		
		paiement d'une partie de sa dette envers le fournisseur contre chèque bancaire		
		24/12/N		
		Installation techniques matériels et outillages industriels		
		Etat TCA deductible		
		Banque		
		Caisse		
		Produit financier		
		Acquisition d'une deuxième machine contre espèces et chèque bancaire		

Facture N°153		le 24/12/N	
Doit : SMS Jouet			
Montant brut		20 000	
Remise 2%		400	
<b>Net commercial</b>		<b>19 600</b>	
Escompte 2%		392	
<b>Net financier</b>		<b>19 208</b>	
TVA 18%		3 457,44	
Port		700	
TVA / port 12%		84	
Installation		200	
TVA/inst 18%		36	
<b>Net à payer TTC</b>		<b>23 685,44</b>	

**Le coût réel d'acquisition de la machine :**  
 **$19\ 600 + 700 + 200 = 20\ 500\ \text{D}$**

4. Déterminez le montant des dettes envers les fournisseurs au 31/12/N.

**Le montant des dettes envers les fournisseurs :**

**$3200 - 22000 = 1000\ \text{D}$**

***BON TRAVAIL***