

EXERCICES DE REVISION

EXERCICE I

Le plan est muni d'un repère orthonormal (O, \vec{i}, \vec{j}) .

Pour tout entier naturel n , on considère la fonction f_n définie et dérivable sur l'ensemble des nombres réels \mathbf{R} par

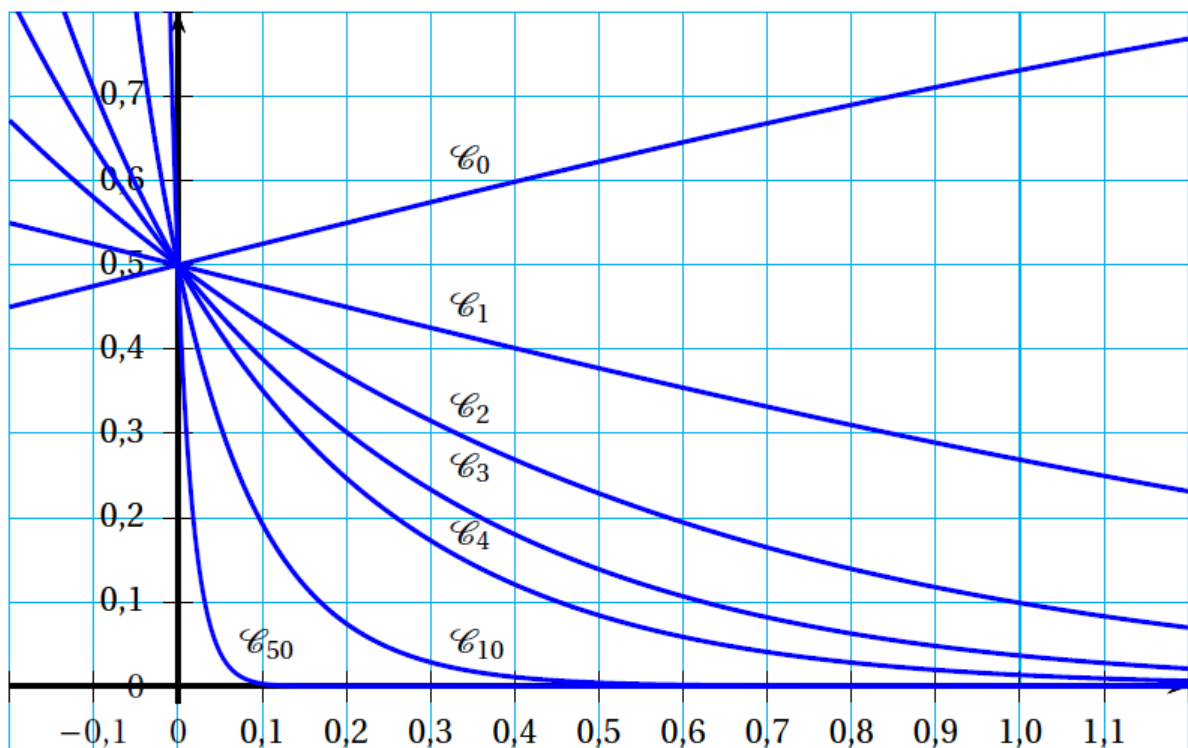
$$f_n(x) = \frac{e^{-(n-1)x}}{1+e^x}.$$

On désigne par C_n la courbe représentative de f_n dans le repère (O, \vec{i}, \vec{j}) .

On a représenté ci-dessous les courbes C_n pour différentes valeurs de n .

Soit la suite (u_n) définie pour tout entier naturel n par :

$$u_n = \int_0^1 f_n(x) dx$$



Partie A - Étude graphique

1. Donner une interprétation graphique de u_n .
2. Quelles conjectures peut-on faire concernant les variations et la convergence de la suite (u_n) ?
3. Proposer, à l'aide du graphique ou de la calculatrice, une valeur approchée de u_4 à 0,05 près.

Partie B - Étude théorique

1. Montrer que $u_0 = \ln\left(\frac{1+e}{2}\right)$.
2. Montrer que $u_0 + u_1 = 1$ puis en déduire u_1 .
3. Montrer que, pour tout entier naturel n , $u_n \geq 0$.
4. On pose pour tout entier naturel n et pour tout x réel, $d_n(x) = f_{n+1}(x) - f_n(x)$.
 - a. Montrer que, pour tout nombre réel x , $d_n(x) = e^{-nx} \frac{1-e^x}{1+e^x}$.
 - b. Étudier le signe de la fonction d_n sur l'intervalle $[0; 1]$.
5. En déduire que la suite (u_n) est convergente.
6. On note ℓ la limite de la suite (u_n) .
 - a. Montrer que, pour tout entier n supérieur ou égal à 1, on a :

$$u_n + u_{n+1} = \frac{1 - e^{-n}}{n}$$

- b. En déduire la valeur de ℓ

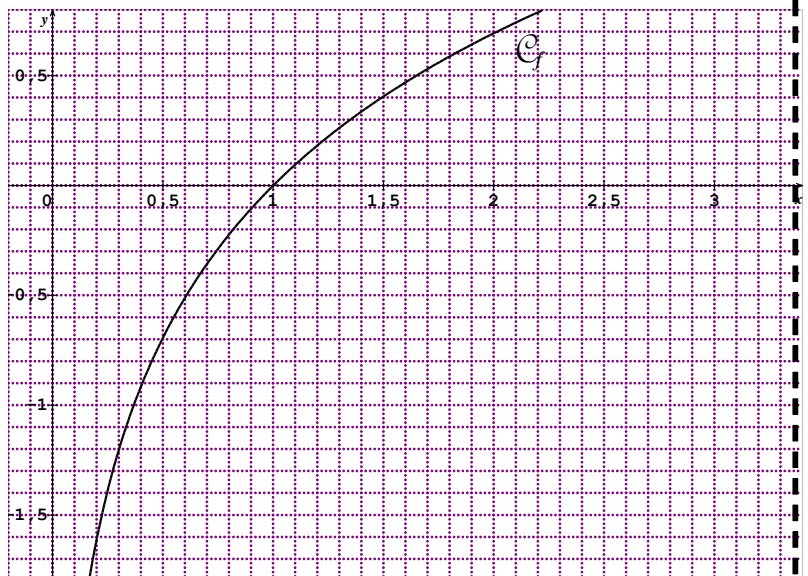
EXERCICE II

On s'intéresse à la plus courte distance entre la courbe représentative de la fonction \ln et l'origine du repère orthonormé dans lequel elle est représentée.

On note C_f la courbe représentative de la fonction f définie sur $]0; +\infty[$ par $f(x) = \ln x$.

M un point situé sur C_f et on note x l'abscisse de ce point.

Soit d la fonction définie sur $]0; +\infty[$ qui à x associe la distance OM .



Partie A -

Il existe une valeur minimale de $d(x)$ atteinte en un réel x_0 .

Par lecture graphique, donner un encadrement à 0,1 près de la valeur de x_0 .

Partie B -

- 1) Montrer que $d(x) = \sqrt{x^2 + (\ln x)^2}$ pour tout x réel strictement positif.
- 2) a) Calculer $d'(x)$.

- b) Montrer que, pour x réel strictement positif, le signe de $d'(x)$ est le même que celui de $x^2 + \ln x$.
- 3) Soit g la fonction définie sur $]0; +\infty[$ par $g(x) = x^2 + \ln x$.
- Déterminer les limites de g en 0 et en $+\infty$.
 - Étudier les variations de g sur $]0; +\infty[$.
 - Montrer alors que l'équation $g(x) = 0$ admet une unique solution α sur $]0; +\infty[$.
 - A l'aide de la calculatrice, déterminer un encadrement à 10^{-3} près de α .
 - Préciser le signe de $g(x)$ selon les valeurs de x .
- 4) a) En déduire le tableau de variation de la fonction d sur $]0; +\infty[$.
- b) Justifier que $\alpha = x_0$.
- c) Montrer que $\ln \alpha = -\alpha^2$, puis que $d(\alpha) = \alpha\sqrt{1+\alpha^2}$.
- 5) En déduire une valeur approchée à 10^{-2} près de la distance la plus courte entre l'origine du repère et C_f .

Partie C-

On note T la tangente à la courbe C_f au point M .

- Quelle conjecture peut-on faire quant à la position de T et (OM) lorsque la distance OM est minimale ? Tracer cette tangente sur le sujet (ne pas reproduire la figure).
- Déterminer une équation de la tangente T_0 à la courbe C_f au point d'abscisse α .
 - Déterminer le coefficient directeur de la droite (OM) lorsque OM est minimale.
 - Démontrer la conjecture de la question 1.

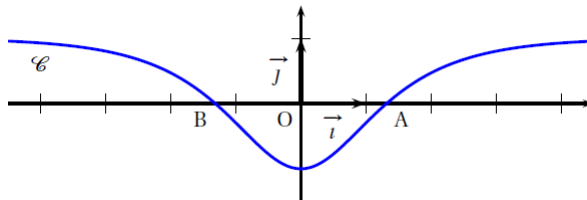
EXERCICE III

Soit f la fonction définie sur \mathbb{R} par

$$f(x) = 1 - \frac{4e^x}{e^{2x} + 1}.$$

On note C sa courbe représentative dans un repère orthogonal (O, \vec{i}, \vec{j}) .

Sur le graphique ci-dessous on a tracé la courbe C . Elle coupe l'axe des abscisses aux points A et B .



Partie A

L'objet de cette partie est de démontrer certaines propriétés de la fonction f que l'on peut conjecturer à partir du graphique.

- La fonction f semble croissante sur l'intervalle $[0; +\infty[$.

a. Vérifier que pour tout réel x , $f(x) = \frac{4e^x(e^{2x} - 1)}{(e^{2x} + 1)^2}$.

b. En déduire le sens de variation de la fonction f sur l'intervalle $[0; +\infty[$.

2. La droite d'équation $x = 0$ semble être un axe de symétrie de la courbe C .

Démontrer que cette conjecture est vraie.

3. On désigne par a l'abscisse du point A et on pose $c = e^a$.

a. Démontrer que le réel c est une solution de l'équation $x^2 - 4x + 1 = 0$.

En déduire la valeur exacte de a .

b. Donner le signe de $f(x)$ selon les valeurs de x .

Partie B

L'objet de cette partie est d'étudier quelques propriétés de la fonction F définie sur \mathbf{R} par :

$$F(x) = \int_0^x f(t) dt$$

1. Déterminer les variations de la fonction F sur \mathbf{R} .

2. Interpréter géométriquement le réel $F(a)$. En déduire que $-a \leq F(a) \leq 0$.

3. On cherche la limite éventuelle de F en $+\infty$.

a. Démontrer que pour tout réel positif t , $f(t) \geq 1 - 4e^{-t}$.

b. En déduire que pour tout réel positif x , $F(x) \geq x - 4$ et déterminer la limite de $F(x)$ lorsque x tend vers $+\infty$.

4. Dans cette question, toute trace de recherche ou d'initiative, même incomplète, sera prise en compte dans l'évaluation.

Déterminer la limite de $F(x)$ lorsque x tend vers $-\infty$.

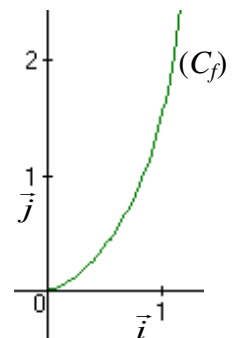
EXERCICE IV

1°) Calculer $I = \int_0^{\frac{\pi}{4}} x \tan^2 x \, dx$ à l'aide d'une intégration par parties.

2°) Soit la fonction définie sur $\left[0; \frac{\pi}{2}\right[$ par : $f(x) = \sqrt{x} \tan x$ dont la courbe (C_f) est

représentée ci-contre dans le plan P muni du repère orthonormal $(O; \vec{i}, \vec{j})$:

On considère le solide engendré par la rotation autour de l'axe $(O; \vec{i})$ de la surface délimitée dans le plan P par l'axe $(O; \vec{i})$, la droite d'équation $x = \frac{\pi}{4}$ et la courbe (C_f) .



Sachant que l'unité graphique est de 2 cm, calculer le volume V du solide en cm^3 .

EXERCICE V

Soit f la fonction définie sur $[1; +\infty[$ par : $f(x) = \sqrt{x} e^{-x}$.

Pour tout $\alpha > 1$, on considère l'intégrale : $I(\alpha) = \int_{\alpha}^{2\alpha} f(x) dx$.

1°) Interpréter géométriquement le nombre $I(\alpha)$.

2°) Démontrer que, pour tout $x \in [1; +\infty[$, on a : $e^{-x} \leq I(x) \leq x e^{-x}$.

3°) En déduire que pour tout $\alpha > 1$:

$$e^{-\alpha} - e^{-2\alpha} \leq I(\alpha) \leq (\alpha + 1) e^{-\alpha} + (-1 - 2\alpha) e^{-2\alpha}.$$

4°) Rappel : « Une fonction g admet une limite égale à l en $+\infty$ » signifie :

« Pour tout intervalle ouvert I contenant l , on peut trouver un réel A tel que : I contient toutes les valeurs de $g(x)$ pour x supérieur ou égal à A . »

Démontrer le théorème suivant :

« Soient u , v et w des fonctions définies sur $[1; +\infty[$ telles que :
pour tout réel $x \geq 1$, $u(x) \leq v(x) \leq w(x)$, et soit l un réel.

Si $\lim_{x \rightarrow +\infty} u(x) = l$ et $\lim_{x \rightarrow +\infty} w(x) = l$ alors $\lim_{x \rightarrow +\infty} v(x) = l$. »

5°) En déduire la limite de $I(\alpha)$ lorsque α tend vers $+\infty$.

