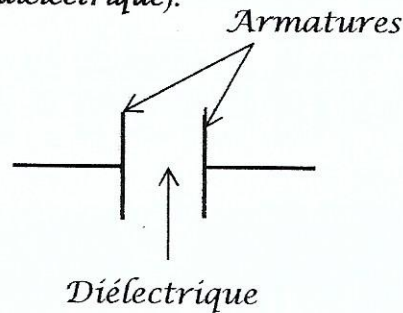


I- Le condensateur

1. Définition et représentation :

☼ Un condensateur est un dipôle électrique constitué par deux plaques métalliques conductrices appelées *armatures* séparées par un isolant (*diélectrique*).

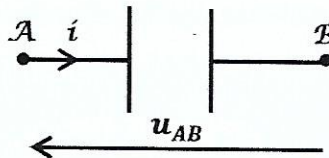
☼ Il est symbolisé par :



☼ Les condensateurs sont d'une grande variété de modèles et de forme et sont très utilisés en électronique.

☼ Si les armatures du condensateur sont planes et parallèles, le condensateur est alors est *condensateur plan*.

☼ Il est préférable de représenter le condensateur en *convention récepteur*.



2. Charge et décharge d'un condensateur

Q : Comment fonctionne un condensateur ?

Montage :

☼ K en position 1 :

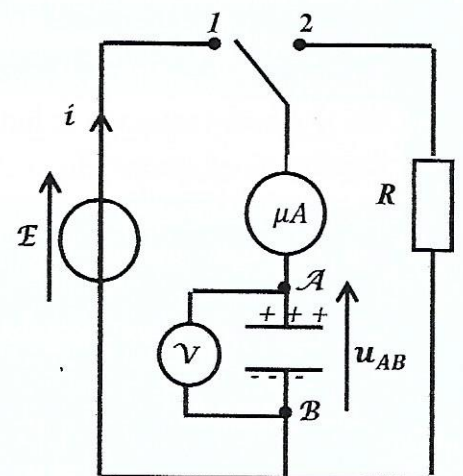
✓ L'aiguille du microampèremètre dévie puis revient à 0 et le voltmètre indique une tension u_{AB} qui tend vers $K \cdot E$.

☼ K en position 2 :

✓ L'aiguille du microampèremètre dévie dans l'autre sens puis revient à 0 et le voltmètre indique une tension qui tend vers $K \cdot 0$.

Interprétation :

✓ K en position 1 : En raison de l'isolant, les charges électriques libres (les électrons) qui se déplacent dans le reste du circuit ne peuvent traverser le reste du circuit pour aller d'une armature à une autre, un phénomène dit d'influence permet à l'une des armatures d'agir sur l'autre. C'est pourquoi l'autre



armature porte la charge $q_B = -q_A = -q$. Le mouvement de ces charges cesse lorsque $u_{AB} = E$, on dit que le condensateur est chargé.

- ✓ **K en position 2** : En absence du générateur dans le circuit les électrons accumulés sur l'armature B lors de la charge du condensateur se déplacent vers l'armature A par l'intermédiaire des fils de connexions : un courant apparaît dans le circuit et la valeur des charges électriques accumulées sur les armatures du condensateur $\searrow \Rightarrow$ le condensateur se décharge.

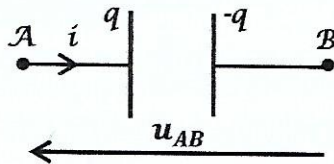
3. Relations fondamentales pour un condensateur.

a) Relation entre intensité et charge :

- ✓ Pour un courant variable, l'intensité instantanée et la charge électrique d'un condensateur sont reliées par la fonction dérivée :

$$i(t) = \frac{dq}{dt}$$

Si $\begin{cases} i > 0 & \text{charge du condensateur } q \nearrow \\ i < 0 & \text{décharge du condensateur } q \searrow \end{cases}; \begin{cases} q \text{ en C} \\ t \text{ en s} \\ i \text{ en A} \end{cases}$

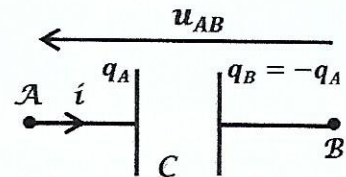


b) Relation entre charge et tension : Capacité

- ✓ La charge électrique portée par une armature d'un condensateur est proportionnelle à la tension à ses bornes. Le coefficient de proportionnalité est une caractéristique du composant : c'est la capacité du condensateur, noté C.

$$q_A = C u_{AB}$$

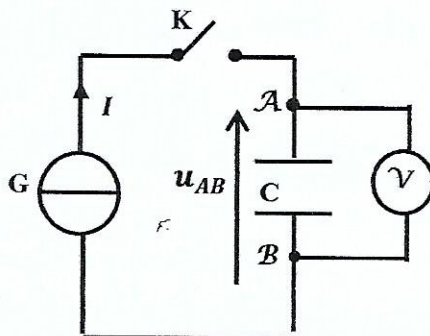
$\begin{cases} q \text{ en C} \\ u_{AB} \text{ en V} \\ C \text{ en farad (F)} \end{cases}$



- ✓ C : est une grandeur positive qui détermine la << capacité >> du condensateur à stocker des charges électriques. Pour une tension donnée en effet, plus la capacité du condensateur est élevée et plus la charge stockée est importante.
- ✓ Sur le condensateur sont indiquées sa capacité et une valeur exprimée en volts qui correspond à sa tension de claquage. Soumettre le condensateur à une tension supérieure risque de détruire.
- ✓ Pour les condensateurs usuels, les valeurs de capacité sont exprimées en sous-multiples du farad : mF ($10^{-3} F$), μF ($10^{-6} F$), nF ($10^{-9} F$)

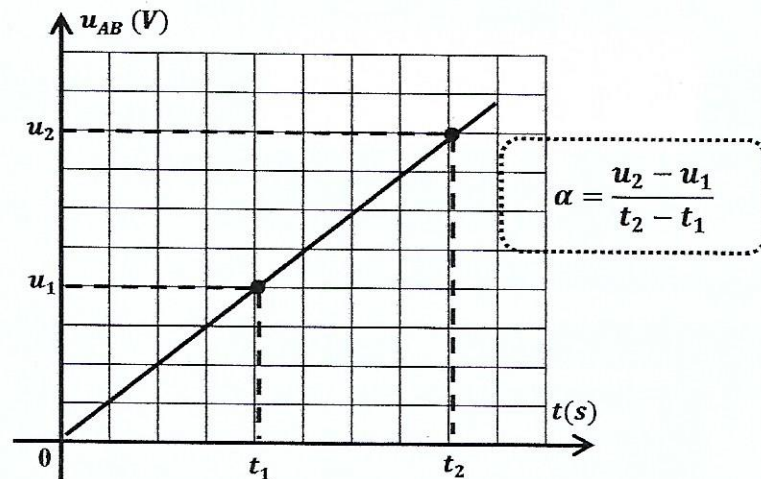
Q : Déterminer graphiquement la valeur de la capacité C ?

Montage :



Mode opératoire :

- ✓ A $t = 0$ on ferme K et on prélève à chaque instant la **tension** u_{AB} aux bornes du condensateur.
- ✓ On trace $u_{AB} = f(t)$



Remarque :

$$i(t) = \frac{dq}{dt} = I \rightarrow q = It + cte ; \text{ à } t = 0, q = 0 \text{ (condensateur non chargé)}$$
$$\Rightarrow cte = 0 \Rightarrow q = It$$

- ✿ La courbe $u_{AB} = f(t)$ est une droite linéaire d'équation : $u_{AB} = \alpha t$ où α est le coefficient directeur de la droite.

- ✿ D'autre part $\begin{cases} u_{AB} = \frac{q}{C} \\ q = It \end{cases} \Rightarrow u_{AB} = \frac{I}{C} t$

$$u_{AB} = \frac{I}{C} t \quad (1) \quad u_{AB} = \alpha t \quad (2)$$

- ✿ Par identification de (1) et (2) :

$$\alpha = \frac{I}{C} \Rightarrow C = \frac{I}{\alpha}$$

c) Relation entre intensité et tension

$$i(t) = \frac{dq}{dt} \quad q = C u$$

$$i(t) = C \frac{du}{dt}$$

4. Energie emmagasinée par un condensateur

☼ Le condensateur est un réservoir d'énergie électrique E_C :

$$E_C = \frac{1}{2} \frac{q^2}{C} = \frac{1}{2} C u^2 = \frac{1}{2} q u$$

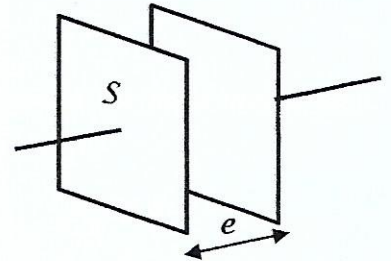
✓ E_C s'exprime en joule (J)

5. Condensateur plan

☼ Un condensateur plan est caractérisé par sa capacité tel que :

$$C = \epsilon \frac{S}{e}$$

ϵ : permittivité absolue du diélectrique ($F \cdot m^{-1}$)
 S : surface des armatures en regard (m^2)
 e : l'écartement des armatures (m)



II- Le dipôle RC

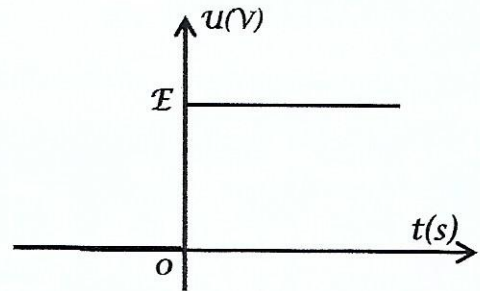
☼ On appelle *dipôle RC* l'association série d'un condensateur de capacité C et d'un conducteur ohmique de résistance R .

Q : Quelle est la réponse d'un dipôle RC soumis à un échelon de tension ?

Echelon de tension :

Un échelon de tension est un signal de la

$$\text{forme } \begin{cases} u(t) = 0 \text{ pour } t < 0 \\ u(t) = E \text{ pour } t \geq 0 \end{cases}$$

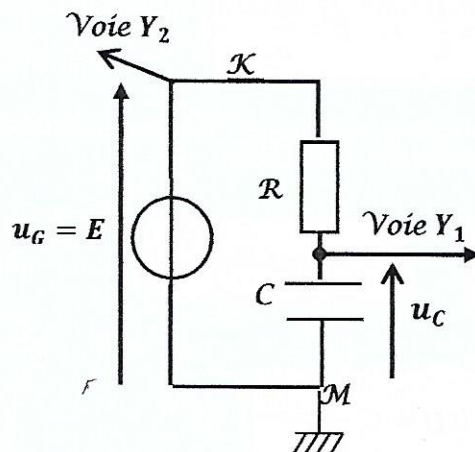


Remarque : L'échelon de tension peut être obtenu aux bornes d'un ensemble constitué d'un générateur de

fém. E et d'un interrupteur K . En effet, si K est ouvert, $u = 0$; si K est fermé $u = E$.

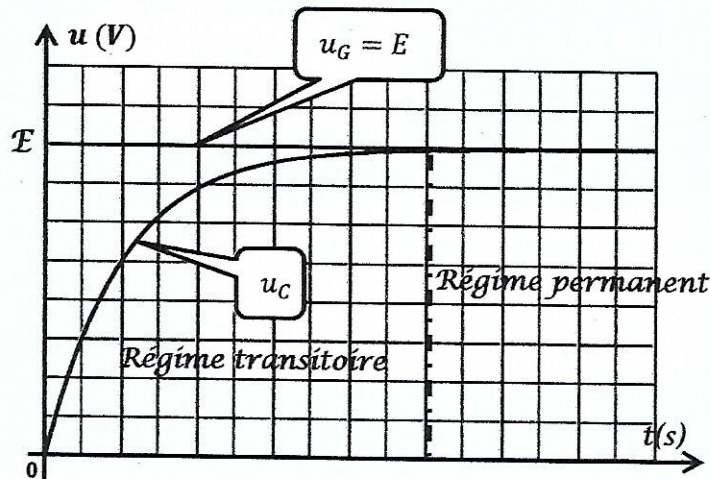
Montage :

Q : indiquer les branchements avec l'oscilloscope qui permettent de visualiser $u_C(t)$ sur la voie Y_1 et $u_C(t)$ sur la voie Y_2 .



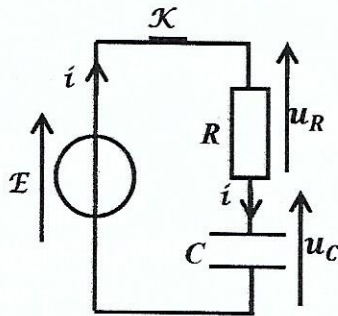
Conclusion :

On appelle réponse du dipôle RC à l'échelon de tension, la tension $u_C(t)$: c'est un phénomène transitoire.



Q : établir l'équation différentielle en $u_C(t)$.

☼ Schéma :



☼ D'après la loi des mailles : $u_R + u_C - E = 0 \Rightarrow u_R + u_C = E$

$$\begin{cases} u_R = Ri \\ i = C \frac{du_C}{dt} \end{cases}$$

$$u_R = RC \frac{du_C}{dt}$$

☼ L'équation différentielle régissant l'évolution de la tension $u_C(t)$, s'écrit :

$$RC \frac{du_C}{dt} + u_C = E$$

$$\frac{du_C}{dt} + \frac{u_C}{RC} = \frac{E}{RC}$$

☼ Signification du produit RC :

La dérivée $\frac{du_C}{dt}$ est homogène à une tension sur un temps. Il en est donc de même du terme $\frac{u_C}{RC}$ qui s'ajoute dans le membre de gauche de l'équation différentielle du circuit. On en déduit que le produit

$\tau = RC$ est homogène à un temps : c'est la constante de temps du dipôle RC.

$$\tau \frac{du_C}{dt} + u_C = E$$

$$\frac{du_C}{dt} + \frac{u_C}{\tau} = \frac{E}{\tau}$$

Q : la solution générale de l'équation différentielle $\frac{du_c}{dt} + \frac{u_c}{\tau} = \frac{E}{\tau}$ est de la forme : $u_c(t) = A e^{-\alpha t} + B$, où A , B et α sont des constantes.

✓ Déterminer A , B et α ?

A savoir :

La fonction exponentielle est un opérateur mathématique noté e , (\exp) définie comme la fonction réciproque du logarithme népérien tel que : $\ln(e^x) = x$

$$e^0 = 1 ; e^{-\infty} = 0 ;$$

$$y = Ae^{-\alpha t} \Rightarrow \frac{dy}{dt} = -\alpha Ae^{-\alpha t}$$

✓ Détermination de A , B et α :

• 1^{ère} étape :

Le condensateur est initialement déchargé : $u_c(t=0) = 0$

$$\Rightarrow A + B = 0 \Rightarrow B = -A \quad \text{d'où } u_c(t) = Ae^{-\alpha t} - A$$

• 2^{ème} étape :

Lorsque $(t \rightarrow +\infty)$; le condensateur est complètement chargé : $u_c(t \rightarrow +\infty) = E$

$$Ae^{-\infty} - A = E \Rightarrow A = -E \quad \text{d'où } B = E$$

• 3^{ème} étape :

$$u_c(t) = E(1 - e^{-\alpha t}) ; \quad \frac{du_c}{dt} = +E\alpha e^{-\alpha t}$$

En remplaçant dans l'équation différentielle : $E e^{-\alpha t} \left(\alpha - \frac{1}{\tau} \right) = 0$

$$\Rightarrow \forall t > 0, \quad \left(\alpha - \frac{1}{\tau} \right) = 0 \quad \Rightarrow \quad \left(\alpha = \frac{1}{\tau} \right) = \frac{1}{RC}$$

$$u_c(t) = E \left(1 - e^{-\frac{t}{\tau}} \right) \text{ avec } \tau = RC$$

• Q : En déduire les expressions de $q(t)$, $u_R(t)$ et $i(t)$

• Expression de $q(t)$:

$$q(t) = C u_c(t) \Rightarrow$$

$$q(t) = CE \left(1 - e^{-\frac{t}{\tau}} \right) \text{ avec } \tau = RC$$

$$Q_{\max} = CE : \text{ charge maximale}$$

- Expression de $u_R(t)$:

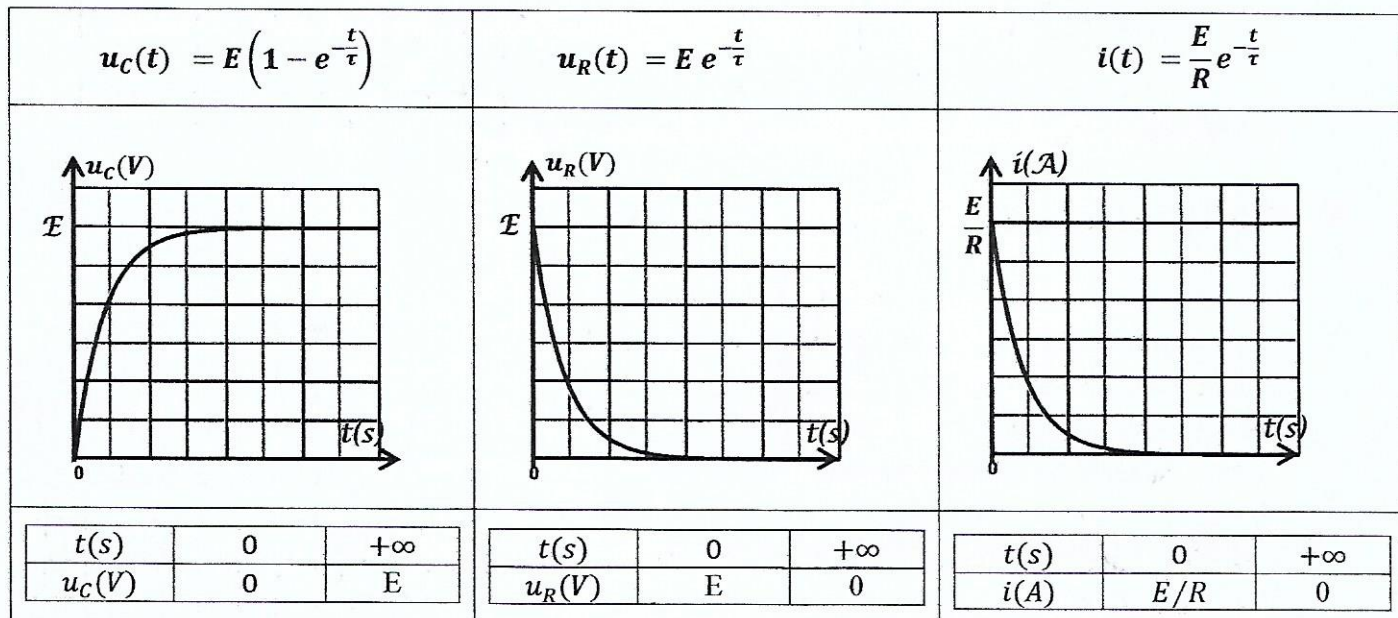
$$u_R(t) + u_C(t) = E \Rightarrow u_R(t) = E - u_C(t) = E - E(1 - e^{-\frac{t}{\tau}})$$

$$u_R(t) = E e^{-\frac{t}{\tau}}$$

- Expression de $i(t)$:

$$u_R(t) = R i(t) \Rightarrow \begin{cases} i(t) = \frac{u_R(t)}{R} = \frac{E}{R} e^{-\frac{t}{\tau}} \\ I_0 = \frac{E}{R} \text{ intensit  maximale} \end{cases}$$

⊗ *Graphes de $u_C(t)$, $u_R(t)$ et $i(t)$*



⊗ *La constante de temps τ*

a) D finition :

La constante de temps τ est une grandeur caract ristique du dip le RC, elle nous renseigne sur la rapidit  avec laquelle s'effectue la charge ou la d charge d'un condensateur.

b) D termination de la constante de temps τ

- Par calcul direct :

Connaissant les valeurs de C et de $R \Rightarrow \tau = RC$

- D termination graphique :

✓ 1^{ re} m thode

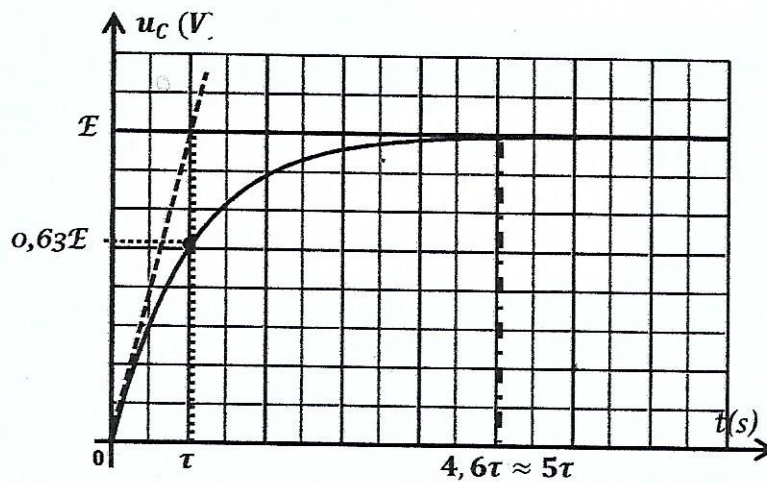
On trace la tangente   la courbe $u_C = f(t)$ au point d'abscisse $t = 0$, l'intersection de cette tangente avec la droite $u_C = E$ donne $t = \tau$

✓ 2^{ème} méthode

$$u_C(t = \tau) = E(1 - e^{-1}) = 0,63E.$$

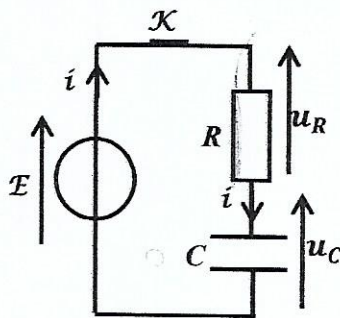
Donc, par lecture graphique de l'abscisse du point de la courbe $u_C = f(t)$ d'ordonnée $0,63E$, on obtient la valeur de τ .

τ correspond donc au temps nécessaire pour charger un condensateur à 63%.



Q : établir l'équation différentielle en $u_R(t)$.

☼ Schéma :



☼ D'après la loi des mailles : $u_R + u_C - E = 0 \Rightarrow u_R + u_C = E : (1)$

✓ On dérive (1) par rapport au temps :

$$\frac{d}{dt}(u_R + u_C = E) \Rightarrow \frac{du_R}{dt} + \frac{du_C}{dt} = 0$$

✓ D'autre part :

$$u_R = Ri = RC \frac{du_C}{dt} \Rightarrow \frac{du_C}{dt} = \frac{1}{RC} u_R$$

☼ L'équation différentielle régissant l'évolution de la tension $u_R(t)$, s'écrit :

$$\frac{du_R}{dt} + \frac{u_R}{RC} = 0$$

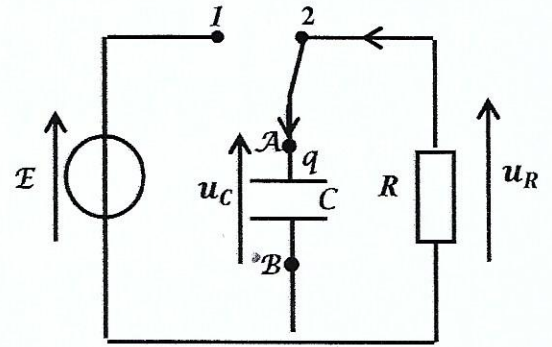
☼ Cette équation différentielle admet comme solution :

$$u_R(t) = E e^{-\frac{t}{\tau}}$$



III- Décharge d'un condensateur :

- ✓ On suppose que le condensateur est chargé et que la tension à ses bornes $u_c = E$ au moment où l'on bascule l'interrupteur en position 2. A la date $t = 0$, les bornes du dipôle RC sont reliées par un fil, la tension aux bornes du dipôle RC passe brutalement de E à 0 : le dipôle est soumis à un échelon de tension descendant.



- ✓ En l'absence de générateur dans le circuit, les *électrons accumulés* sur l'*armature négative B* lors de la charge du condensateur, *se déplacent* vers l'*armature positive A* par l'intermédiaire des fils de connexion. *Un courant apparaît* alors dans le circuit, et la valeur des charges électriques accumulées sur les armatures du condensateur diminue : il se *décharge*.

Q : établir l'équation différentielle en $u_c(t)$.

☼ Schéma :

☼ La loi d'additivité des tensions permet d'écrire :

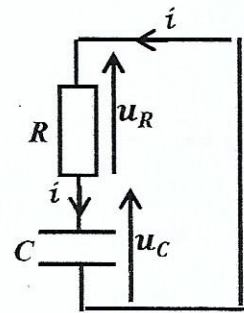
$$u_R + u_c = 0$$

- Avec l'orientation choisie pour le circuit, on a :
 - ✓ Pour le condensateur

$$i = \frac{dq}{dt} \text{ et } q = Cu \Rightarrow i = C \frac{du_c}{dt}$$

- ✓ Pour le résistor :

$$u_R = Ri = RC \frac{du_c}{dt}$$



☼ L'équation différentielle de la tension u_c aux bornes d'un condensateur lors de sa charge dans un résistor est :

$$\frac{du_c}{dt} + \frac{u_c}{\tau} = 0$$

Avec $\tau = RC$: constante de temps du circuit (s)

Remarque : En utilisant la relation $u_c = q/C$, on obtient l'équation différentielle en $q(t)$:

$$\frac{dq}{dt} + \frac{1}{\tau} q = 0$$

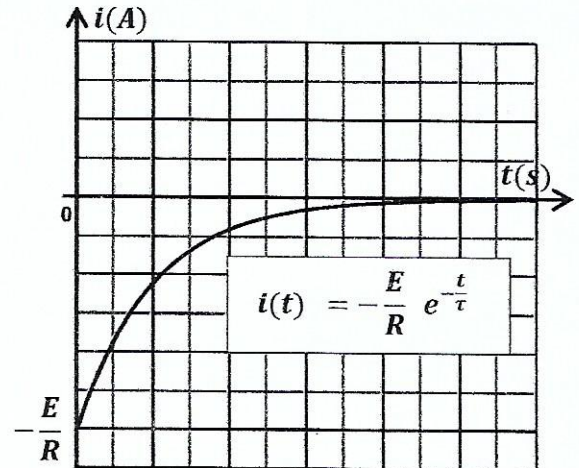
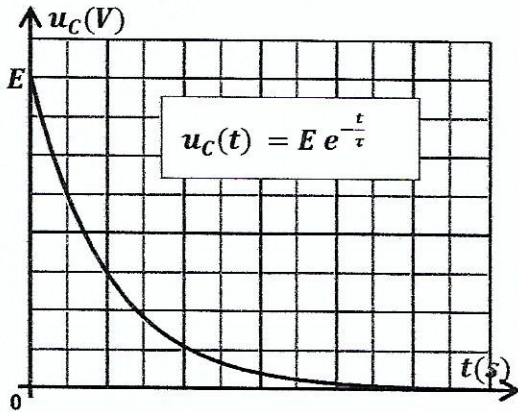
Q : Montrer que $u_c(t) = E e^{-\frac{t}{\tau}}$ est une solution de $\frac{du_c}{dt} + \frac{u_c}{RC} = 0$

Avec τ est une constante à exprimer en fonction de R et C .

- $u_C(t) = E e^{-\frac{t}{\tau}}$, $\frac{du_C}{dt} = -\frac{E}{\tau} e^{-\frac{t}{\tau}}$

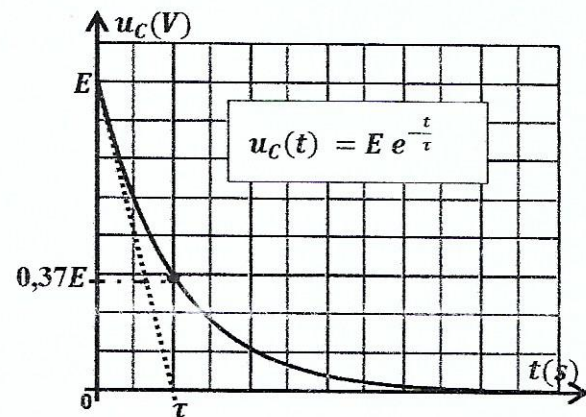
- On remplace $u_C(t)$ et $\frac{du_C}{dt}$ dans l'équation différentielle :

$$-\frac{E}{\tau} e^{-\frac{t}{\tau}} + \frac{E}{RC} e^{-\frac{t}{\tau}} = 0 \Rightarrow E e^{-\frac{t}{\tau}} \left(-\frac{1}{\tau} + \frac{1}{RC}\right) = 0 \Rightarrow \left(-\frac{1}{\tau} + \frac{1}{RC}\right) = 0 \Rightarrow \tau = RC$$



✿ Détermination de la constante de temps τ :

- ✓ La même méthode de détermination graphique de τ s'applique à la courbe de décharge. L'intersection de la tangente à la courbe $u_C = f(t)$ à l'origine avec l'axe des abscisses donne $t = \tau$.
- ✓ En remplaçant t par τ dans l'expression de $u_C(t)$, on obtient $u_C = E e^{-1} = 0,37E$.
- ✓ τ est alors l'abscisse du point de la courbe $u_C(t)$ d'ordonnée $0,37E$.



✿ Durée du régime transitoire

- ✓ Connaître la valeur de τ permet d'apprécier l'ordre de la durée de charge ou de décharge d'un condensateur dans un circuit RC

Lors de la charge ou de la décharge d'un condensateur dans un Circuit RC de constante de temps τ , le régime transitoire dure environ 5τ .

✿ Influence des caractéristiques du circuit :

- ✓ Dans un circuit RC, la charge ou la décharge d'un condensateur de capacité C donnée s'effectue donc de plus en plus lentement quand $R \nearrow$. Il en est de même lorsque $C \nearrow$ à valeur de R fixe.

