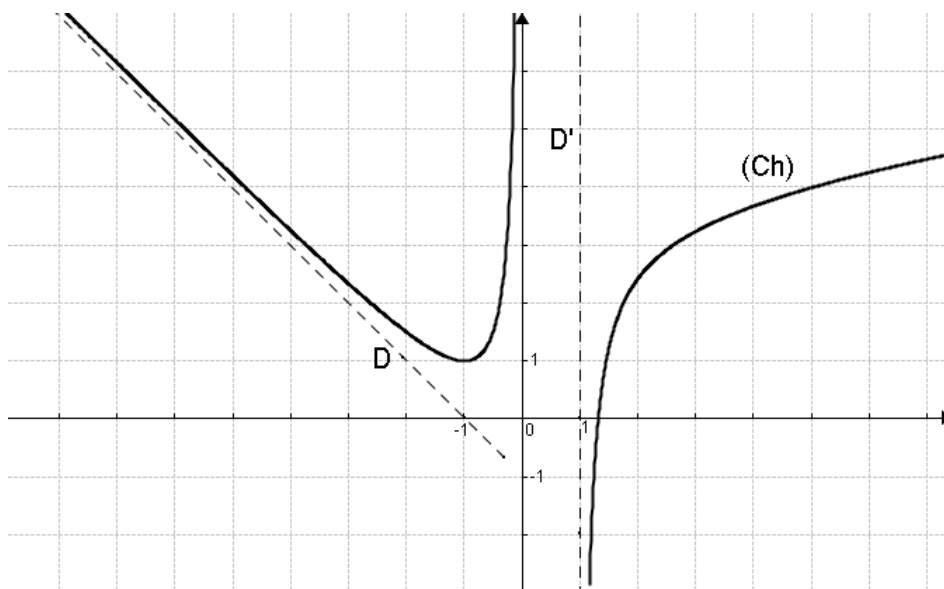


Exercice N°1

(5points)



La courbe (Ch) ci-dessus est la courbe représentative d'une fonction h dans un repère orthonormée. On sait que (Ch) admet trois asymptotes (yy') , D et D' et une branche parabolique de direction (xx') au voisinage de $+\infty$

1) Répondre par **Vraie** ou **faux**

a. l'ensemble de définition de h est $\mathbb{R} - \{0,1\}$

b- $\lim_{x \rightarrow +\infty} \frac{h(x)}{x} = +\infty$

2)a- Déterminer en justifiant les limites suivantes

$$\lim_{x \rightarrow -\infty} \frac{h(x)}{x}, \quad \lim_{x \rightarrow -\infty} h(x) + x, \quad \lim_{x \rightarrow 0^-} h\left(\frac{1 - \cos x}{x}\right) \quad \text{et} \quad \lim_{x \rightarrow -\infty} h\left(\frac{1+x}{x}\right)$$

b- Déterminer l'image par h de chacun des intervalles $]-\infty, -1[$, $]1, +\infty[$ et $]-\infty, 0[$

4) a. Montrer que l'équation : $h(x) + x = 0$ admet une solution unique $\alpha \in]1, +\infty[$

b. Etudier la position relative de (Ch) et la droite d'équation : $y = -x$ sur $]1, +\infty[$

Exercice N°2 (C) est la courbe représentative d'une fonction f (6.5points)

définie sur \mathbb{R} par

$$\begin{cases} f(x) = \frac{4 - \sqrt{x} \cos x}{x+1} & \text{si } x \geq 0. \\ f(x) = \frac{x^2}{\sqrt{x^2+4}-2} & \text{si } x < 0. \end{cases}$$

1)a- Montrer que f est continue en 0

b- En déduire $\lim_{x \rightarrow 0} f\left(\frac{\sin x - x}{\sin x}\right)$

c- Déterminer $\lim_{x \rightarrow -\infty} f(x)$

2)a- Montrer que $\forall x \geq 0, \frac{4-\sqrt{x}}{x+1} \leq f(x) \leq \frac{4+\sqrt{x}}{x+1}$

b- En déduire $\lim_{x \rightarrow +\infty} f(x)$; interpréter graphiquement le résultat

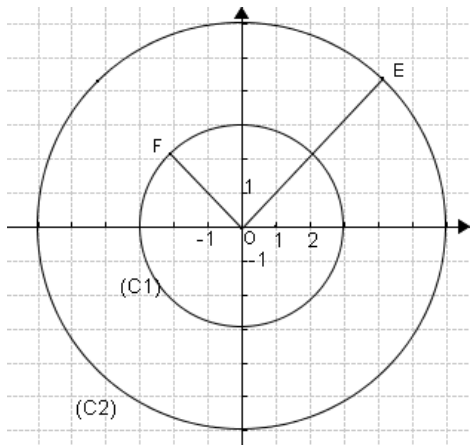
3) a-Montrer que l'équation $f(x) = 0$ admet au moins une solution α dans $]5\pi, 6\pi[$

b- Montrer que $\tan \alpha = -\sqrt{\frac{\alpha}{16} - 1}$

4) Montrer que la fonction définie par $g(x) = f\left(\frac{1}{\cos x}\right)$ si $x \in \left[0, \frac{\pi}{2}\right[$ est prolongeable par continuité en $\frac{\pi}{2}$

Exercice N°3

(5.5points)



Le plan complexe est muni d'un repère orthonormé direct (O, \vec{u}, \vec{v})

(C_1) et (C_2) deux cercles de centres O et O' et de rayons respectives 3 et 6

les points $E \in (C_2)$ et $F \in (C_1)$

(Voir annexe – figure 1)

1)a- Donner le module et un argument de chacun des nombres complexes Z_E et Z_F

b- En déduire que $Z_E = 3\sqrt{2} + 3i\sqrt{2}$ et que $Z_F = \frac{-3\sqrt{2} + 3i\sqrt{2}}{2}$

c-Placer le point G d'affixe $Z_G = 3i\sqrt{2}$ (Annexe Fig 1)

2)a-Montrer que $\frac{Z_G - Z_F}{Z_E}$ est un réel

b-Ecrire sous forme algébrique $\frac{Z_F}{Z_E}$

c-En déduire la nature du quadrilatère $OEGF$ et calculer son aire.

Exercice N°4

(3 points)

Dans le plan complexe muni d'un repère orthonormé (o, \vec{u}, \vec{v}) , On note A, B , les points d'affixes respectives $z_A = 2$ et $z_B = -2$

A tout point $M(z)$ différente de A , on associe le point $M'(z')$ tel que $z' = \frac{2z-4}{z-2}$; $z \neq 2$

1)a. Démontrer que $|z'| = 2$

b. En déduire une indication sur la position de M'

2) Soit M un point différente de A et B

a. Démontrer que $\frac{z'+2}{z-2}$ est réel

b. Interpréter géométriquement ce résultat

c. Donner alors une construction de M' connaissant le point M (annexe Fig 2)

ANNEXE (a rendre avec la copie)

Nom & Prénom.....

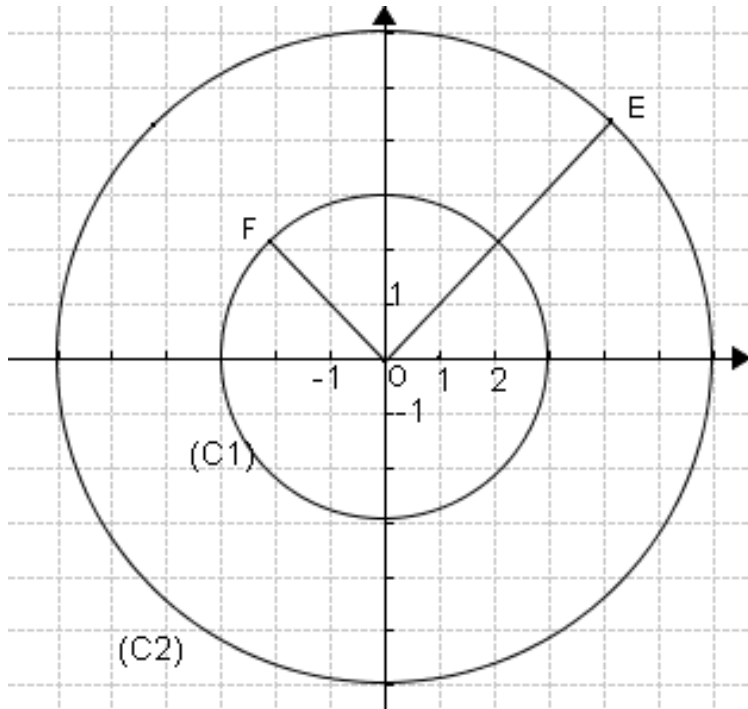


FIGURE 1

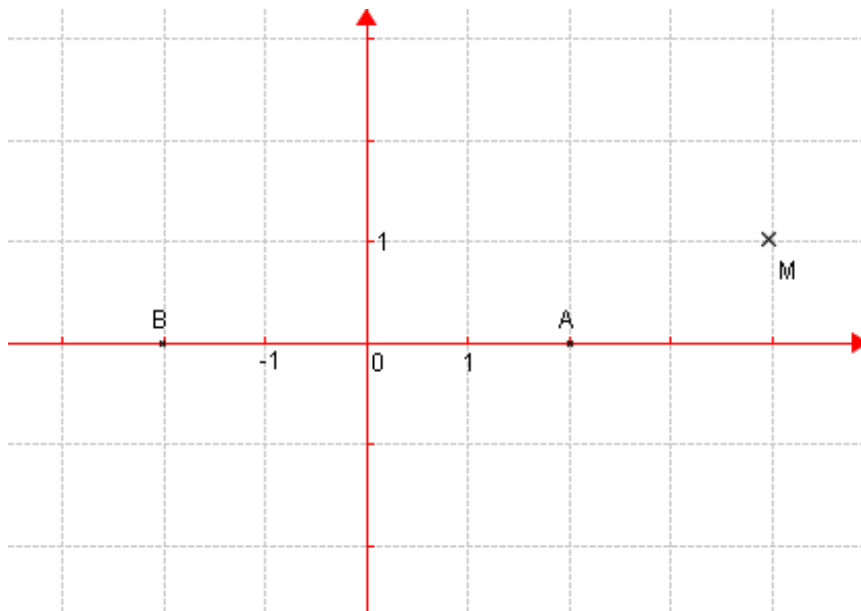


FIGURE 2