

المادة: تاريخ و جغرافيا
المستوى : 4 آداب
التوقيت : 3 ساعات
الضارب : 3

معهد رجيش
السنة الدراسية: 2009/2010
الاستاذ: صيود
الثلاثي الثالث

التاريخ:

يختار التلميذ أحد الموضوعين التاليين:

* المقال:

بين المظاهر الاقتصادية والاجتماعية لأزمة الثلاثينات و اشرح الحلول التي اعتمدت في مجابهتها.

* شرح الوثائق:

المسيرة نحو الاستقلال

* الوثيقة عدد 1:

لائحة المؤتمر الوطني الاستثنائي 18 جانفي 1952

نظرا لأن الحزب قد دخل في تجربة تعاون صريح مع فرنسا على أساس إلغاء الإدارة المباشرة و الوصول بتونس إلى الحكم الذاتي .
و نظرا لأن الرد على مذكرة 31 أكتوبر 1951 بين المعارضة التامة بين موقف التونسيين و موقف الفرنسيين .
و نظرا لأن سياسة الاضطهاد التي شرعت سلطات الحماية في إتباعها لا تعالج الموضوع ... فان مؤتمر الحزب:
يؤكد أن إلغاء الحماية و تحول تونس إلى دولة مستقلة ذات سيادة . و عقد معاهدة بين تونس و فرنسا تنسّق على أساس المساواة علاقة الدولتين في الميدان الاستراتيجي و الميدان الاقتصادي و الميدان الثقافي ، و تضمن المصالح الشرعية لجميع الجاليات الأجنبية هي الأساس الوحيد التي يقوم عليها أي تعاون ودي و مثمر و دائم بين البلدين .
... و يؤكد عزم الشعب التونسي على السعي بكل ما أوتي من قوة لتحقيق مبادئ ميثاق الأمم المتحدة .

المصدر : من اللائحة الصادرة مع المؤتمر في 18 جانفي 1952

* الوثيقة عدد 2:

من لائحة مؤتمر صفاقس في 18 نوفمبر 1955

...يسجل المؤتمر أن الديوان السياسي للحزب الدستوري الجديد قد قاد الحركة الوطنية في داخل البلاد و خارجها قيادة رشيدة و أنه قد أدى الأمانة أحسن أداء و يؤكد من جديد أن الاستقلال التام هو غاية الحزب و يعلن أن الاتفاقيات التونسية الفرنسية (في جوان 1955) خطوة إلى الأمام نحو هدف البلاد الأسمى : الاستقلال التام إذ أن فرنسا اعترفت بالحكم الذاتي

المصدر: النشرة الخاصة بأشغال مؤتمر الحزب الحر الدستوري التونسي

* الوثيقة عدد 3:


من خطاب صالح بن يوسف بجامع الزيتونة في 8 أكتوبر 1955

"... إن أولئك الإخوان العرب و المسلمون ... يهييئون بكم أن تكافحوا و تضحوا... لتحرير الأرض التونسية تحريراً كاملاً شاملاً و يتحرر المغرب العربي كله من ربة الاستعمار ..حتى تبقى أرض المغرب أرضاً عربية مسلمة ... و يهييئون بكم أن تشدّوا بعضكم ... و تقفوا صفاً واحداً ... لتحطيم هذه الاتفاقيات التي اعترفت للاستعمار بما لم تعترف به معاهدة باردو..."

المصدر: جريدة le Petit Matin 18 أكتوبر 1955

* الوثيقة عدد 4:

حكومة الطاهر بن عمار التفاوضية (أوت 1954)



المصدر: الكتاب المدرسي / رابعة آداب

اشرح الوثائق مستعينا بالأسئلة التالية :

- 1/ أدرس تطور العلاقات بين الحركة الوطنية التونسية و سلطات الحماية من 1950 إلى 1954 .
- 2/ بين ظرفية المسيرة نحو الاستقلال التام من 1954 إلى 1956 .

يختار التلميذ أحد الموضوعين التاليين:

*** المقال:**

البرازيل قوة صناعية جديدة .
أبرز مظاهر هذه القوة و دعائمها الطبيعية والبشرية . و بين حدودها المجالية والاجتماعية.

*** شرح الوثائق**

المكانة العالمية للولايات المتحدة الأمريكية

*** الوثيقة عدد 1:**

تطور قيمة المبادلات الأمريكية في العالم

الخدمات		السلع		
2005	2000	2005	2000	
353	299	890	782	الصادرات (مليار دولار)
288.5	224	1677	1218	الواردات (مليار دولار)

المصدر: المنظمة العالمية للتجارة / إحصائيات 2006

*** الوثيقة عدد 2:**

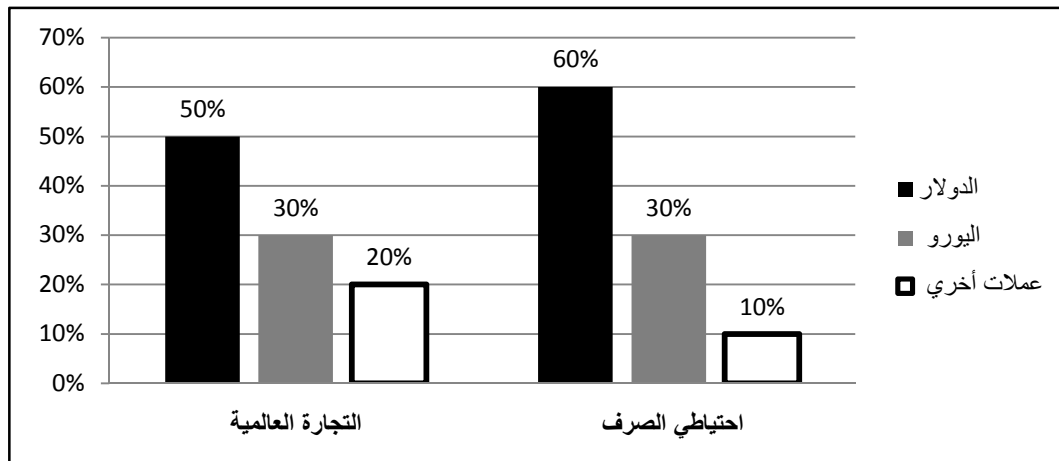
تطور قيمة الاستثمار الأجنبي المباشر للولايات المتحدة

2006	2000	
%27	%11.5	حصة الاستثمارات الصادرة الأمريكية في العالم
%17	%22	حصة الاستثمارات الواردة الأمريكية في العالم

المصدر: مسائل اقتصادية 2007

*** الوثيقة عدد 3:**

مكانة الدولار في الاقتصاد العالمي سنة 2005



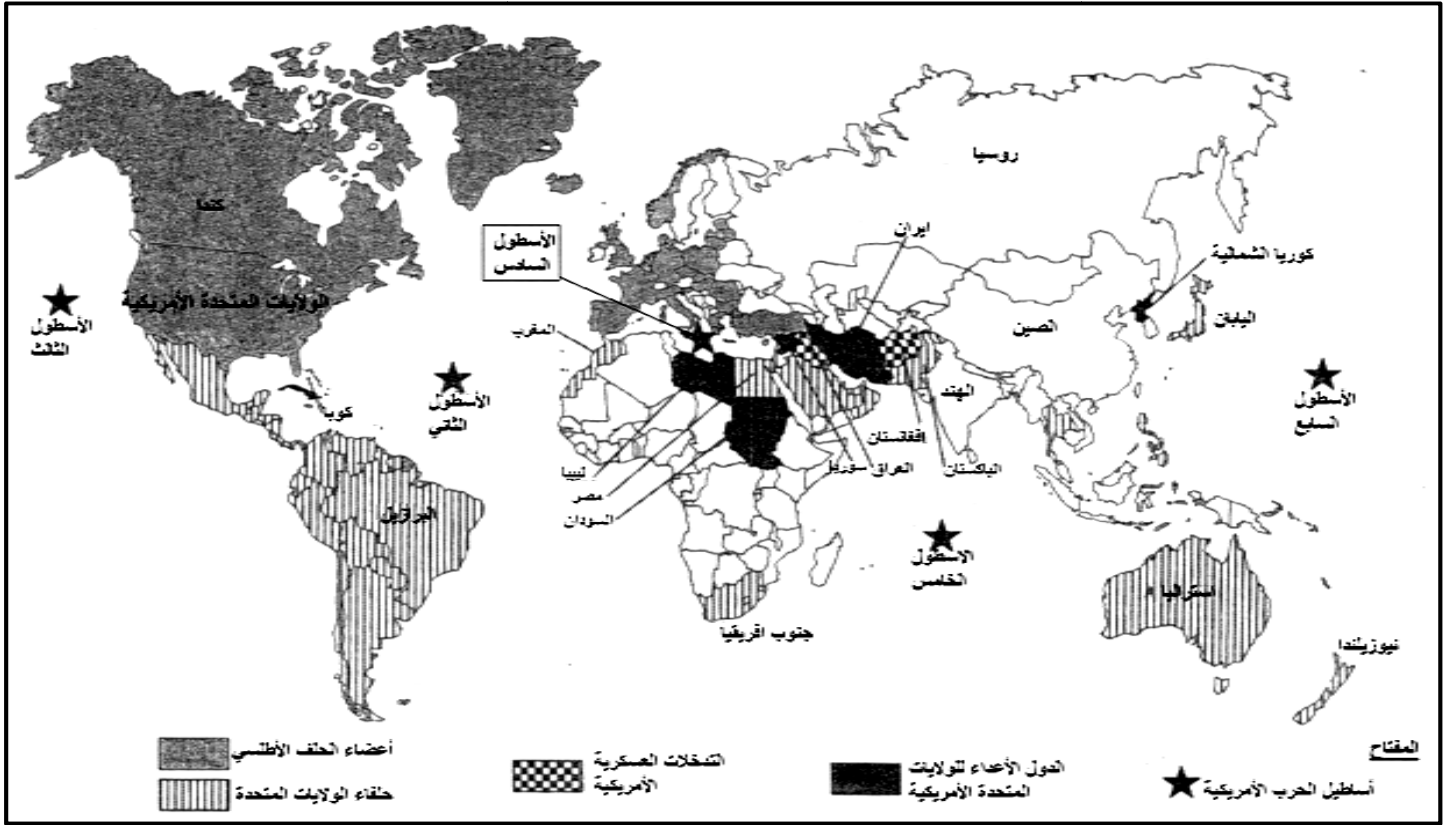
المصدر: ملامح العالم الاقتصادية 2006

تأثير الثقافة الأمريكية في العالم

تمادت الصناعات الثقافية الأمريكية في تصدير منتجاتها إلى العالم و تواصل السعي لإخضاعه لسيطرتها... و في كبرى مدن العالم ... تتعدد المراكز التجارية التي تحاكي المراكز التجارية بكبرى مدن الولايات المتحدة و تهيأ فضاءات الترفيه التي يلهو فيها ملايين الزائرين على الطريقة الأمريكية...
إن منتجات الثقافة و المعلومات الصادرة عن الولايات المتحدة تغرق الأنظمة السمعية البصرية و شاشات التلفزة و شبكات الانترنت...

المصدر : سنياغو راغوبان *الولايات المتحدة ، المجال و البيئة و المجتمع و المدينة

الانتشار العسكري الأمريكي في العالم



المصدر: العالم الدبلوماسي 2005

اشرح الوثائق مستعينا بالأسئلة التالية:

- 1/ استخراج من الوثائق مكانة الولايات المتحدة الأمريكية العالمية .
- 2/ أذكر الدعائم البشرية و التنظيمية التي كانت وراء تنامي النفوذ الأمريكي في العالم .
- 3/ بين حدود هذه المكانة.