

<i>L. Regueb</i>	<i>Mathématiques</i>	<i>Classe : 4^{ème}M</i>
<i>Prof : Salhi Noureddine</i>	<i>Devoir de Synthèse №2</i>	<i>Le : 08/03/2013 D: 4h</i>

Exercice1(3pts)

Pour chacune des questions suivantes une seule des trois réponses proposées est exacte .Le candidat indiquera sur sa copie le numéro de la question et la lettre correspondant à la réponse choisie. Aucune justification n'est demandée .

1) La similitude indirecte dont la transformation complexe associée est $z' = 2i\bar{z} + 3$

est d'axe la droite d'équation :

- a) $y = x - 1$ b) $y = x + 1$ c) $y = -x + 1$

2) La limite de $\frac{x^2}{e^x - 1}$ quand x tend vers 0 est égale à :

- a) 1 b) $+\infty$ c) 0

3) Soit f une fonction continue sur \mathbb{R} .

Si $\int_1^2 (f(t) - 1)dt = 0$, alors la valeur moyenne de f sur [1,2] est égale à :

- a) 0 b) 1 c) 2

Exercice2(5pts)

1) Soit f la fonction définie sur $[0, +\infty[$, $f(x) = x^3 e^{1-x^2}$.

On désigne par (C) la courbe représentative de f dans un repère orthonormé (O, \vec{u}, \vec{v}) .

a) Montrer que $\lim_{x \rightarrow +\infty} f(x) = 0$.

b) Dresser le tableau de variation de f .

c) Construire la courbe (C) .

2) Soit (u_n) la suite définie sur \mathbb{N}^* par : $u_n = \int_0^1 x^n e^{1-x^2} dx$.

a) Calculer u_1 .

b) Montrer que pour tout n de \mathbb{N}^* on a : $\frac{1}{n+1} \leq u_n \leq \frac{e}{n+1}$.

En déduire que (u_n) est convergente et trouver sa limite .

3)a) Montrer à l'aide d'une intégration par parties que pour tout n de \mathbb{N}^* , $u_{n+2} = \left(\frac{n+1}{2}\right) u_n - \frac{1}{2}$.

b) En déduire l'aire du domaine limité par la courbe (C) , l'axe des abscisses et les droites d'équations respectives , $x = 0$ et $x = 1$.

Exercice 3 (6pts)

Soit ABC un triangle isocèle direct de sommet principal A.

On pose $(\widehat{AB, AC}) \equiv 2\alpha \ [2\pi]$ où α est un réel de $]0, \frac{\pi}{2}[$.

On désigne par O le milieu de [BC] et par D le symétrique de A par rapport à O .

Soient I et J les projetés orthogonaux respectifs de O et D sur (AC) .

1) Soit f la similitude directe qui transforme O en I et D en J .

a) Montrer que f a pour angle α et pour rapport $\cos(\alpha)$.

b) Prouver que le centre de f est le point A .

2) On désigne par E le symétrique du point O par rapport au point I .

Montrer que $f(B) = O$ et que $f(C) = E$.

3) Soit g la similitude indirecte telle que : $g(B) = O$ et $g(C) = E$.

Déterminer le rapport de g et montrer que $g(O) = I$.

4) a) Montrer que $g = S_{(OE)} \circ f$

b) Montrer que $g(D) = A$ et $g(A) = J$.

5) Soit Ω le centre de g .

a) Montrer que $(g \circ g)(D) = J$ et en déduire que Ω appartient à la droite (DJ) .

b) Montrer que Ω appartient à la droite (BI) .

c) Construire le point Ω .

Exercice 4 (6pts)

Le plan est muni d'un repère orthonormé (O, \vec{i}, \vec{j}) . On considère les ensembles des points $M(x, y)$ suivants :

$$(H): x^2 - 4y^2 - 2x + 5 = 0 \quad ; \quad (P): 4y^2 + 2x - 5 = 0 .$$

1) a) Montrer que (H) est une hyperbole dont on précisera les foyers, les sommets et les asymptotes .

b) Montrer que (P) est une parabole dont on précisera le foyer, le sommet et la directrice .

2) a) Construire (H) et (P) dans le même repère .

b) Vérifier que la droite T d'équation : $x + 2\sqrt{5}y - 5 = 0$ est une tangente commune à (H) et (P)

au point $A\left(0, \frac{\sqrt{5}}{2}\right)$.

3) Pour tout $x \geq 0$, on pose : $F(x) = \int_1^{e^x - e^{-x} + 1} \sqrt{4 + (t - 1)^2} dt$

a) Montrer que F est dérivable sur $[0, +\infty[$ et que pour tout $x \in [0, +\infty[$, $F'(x) = (e^x + e^{-x})^2$

b) Calculer $F(0)$ et déduire l'expression de $F(x)$ pour tout $x \in [0, +\infty[$.

c) Résoudre dans \mathbb{R} , l'équation : $e^x - e^{-x} + 1 = \frac{5}{2}$.

d) On désigne par \mathcal{A} l'aire de la partie du plan limitée par la courbe (H) et les droites d'équations

respectives $x = 1$, $x = \frac{5}{2}$. Montrer que $\mathcal{A} = \frac{15}{8} + 2\ln(2)$ (u.a).

Exercice1

Indications :

Question n°	1	2	3
Réponse	a	c	b

1) $z' = 2i\bar{z} + 3$ est la similitude indirecte

de rapport 2, de centre $\Omega(-1,-2)$ et d'axe la droite d'équation $y = x - 1$.

$$2) \lim_{x \rightarrow 0} \frac{x^2}{e^x - 1} = \lim_{x \rightarrow 0} \frac{x}{\frac{e^x - 1}{x}} = \frac{0}{1} = 0$$

$$3) \int_1^2 (f(t) - 1) dt = 0 \Rightarrow \int_1^2 f(t) dt - \int_1^2 1 dt = 0 \Rightarrow \frac{1}{2-1} \int_1^2 f(t) dt = 1 \Rightarrow \bar{f} = 1$$

(où \bar{f} est la valeur moyenne de f sur $[1,2]$)

Exercice2

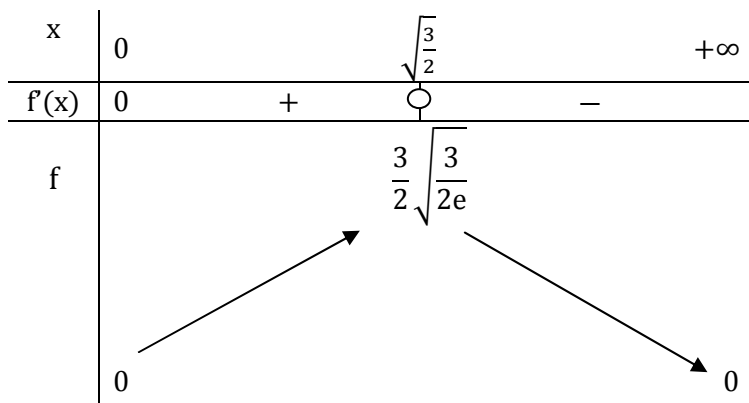
1)a) Soit $x > 0$, $f(x) = x^3 e^{1-x^2} > 0$.

$$\begin{aligned} \lim_{x \rightarrow +\infty} \ln(f(x)) &= \lim_{x \rightarrow +\infty} \ln(x^3 e^{1-x^2}) = \lim_{x \rightarrow +\infty} (3 \ln(x) + 1 - x^2) \\ &= \lim_{x \rightarrow +\infty} x \left(3 \frac{\ln(x)}{x} + \frac{1}{x} - x \right) = +\infty(0 + 0 - \infty) = -\infty \end{aligned}$$

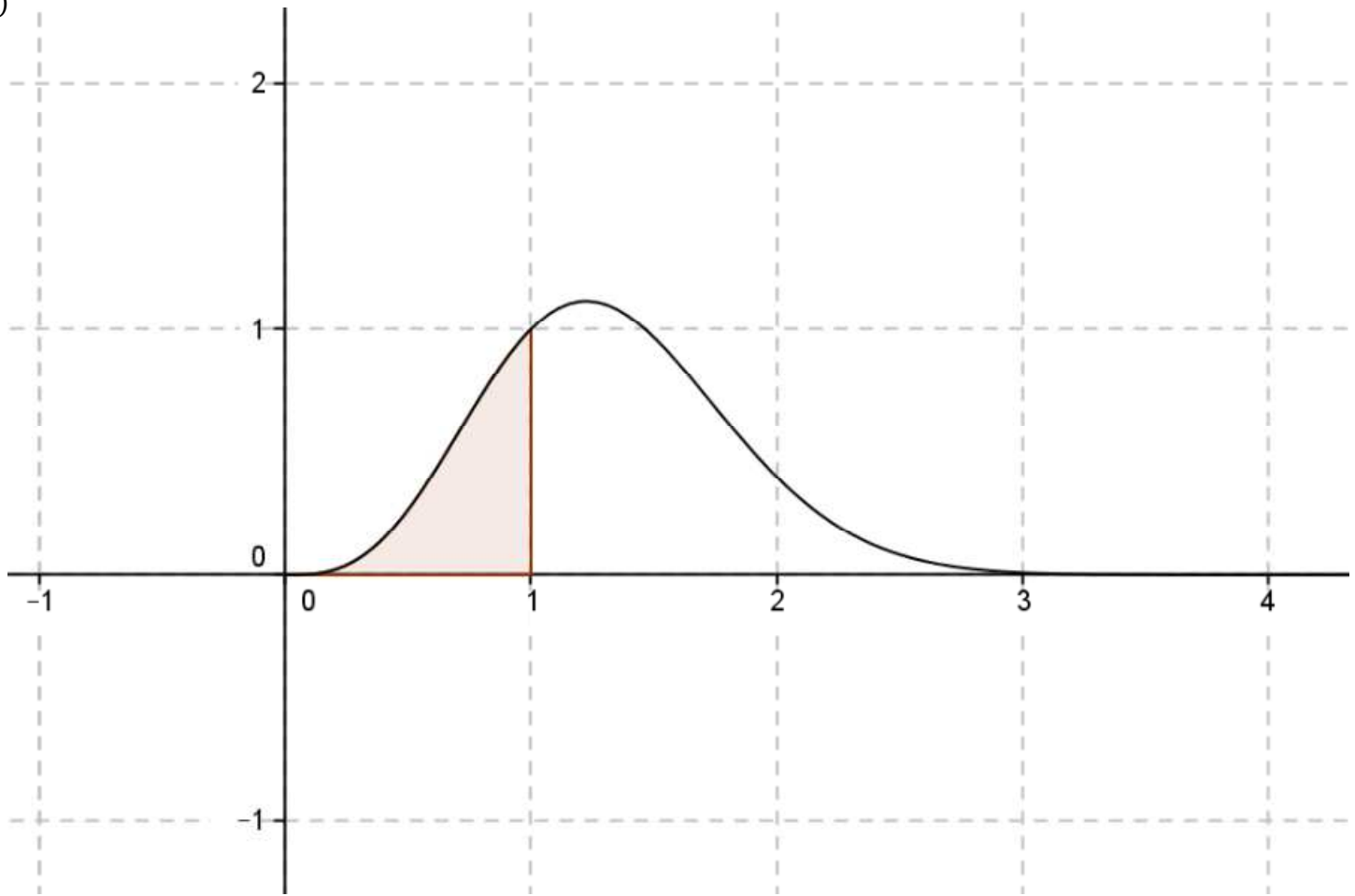
$$\lim_{x \rightarrow +\infty} \ln(f(x)) = -\infty \text{ donc } \lim_{x \rightarrow +\infty} f(x) = 0$$

b) f est dérivable sur $[0, +\infty[$ et $f'(x) = x^2 e^{1-x^2} (3 - 2x^2)$

$$f'(x) = 0 \Leftrightarrow x = 0 \text{ ou } x^2 = \frac{3}{2} \Leftrightarrow x = 0 \text{ ou } x = \sqrt{\frac{3}{2}}; \text{ car } x \in [0, +\infty[.$$



c)



2) $u_n = \int_0^1 x^n e^{1-x^2} dx, n \in \mathbb{N}^*$

a) $u_1 = \int_0^1 x e^{1-x^2} dx = -\frac{1}{2} \int_0^1 -2x e^{1-x^2} dx = -\frac{1}{2} [e^{1-x^2}]_0^1 = \frac{e-1}{2}$.

b) $x \in [0,1] \Rightarrow 0 \leq x \leq 1 \Rightarrow 0 \leq x^2 \leq 1 \Rightarrow -1 \leq -x^2 \leq 0 \Rightarrow 0 \leq 1-x^2 \leq 1 \Rightarrow e^0 \leq e^{1-x^2} \leq e^1$
 $\Rightarrow x^n \leq x^n e^{1-x^2} \leq e x^n, n \in \mathbb{N}^*$

D'où $\int_0^1 x^n dx \leq \int_0^1 x^n e^{1-x^2} dx \leq \int_0^1 e x^n dx \Rightarrow \frac{1}{n+1} \leq u_n \leq \frac{e}{n+1}, (n \in \mathbb{N}^*)$

On a: $\begin{cases} \frac{1}{n+1} \leq u_n \leq \frac{e}{n+1}, (n \in \mathbb{N}^*) \\ \lim_{n \rightarrow +\infty} \frac{1}{n+1} = 0 \\ \lim_{n \rightarrow +\infty} \frac{e}{n+1} = 0 \end{cases}$ alors $\begin{cases} \text{la suite } (u_n) \text{ est convergente} \\ \text{et} \\ \lim_{n \rightarrow +\infty} u_n = 0 \end{cases}$

3)a) $u_n = \int_0^1 x^n e^{1-x^2} dx, n \in \mathbb{N}^* \Rightarrow u_{n+2} = \int_0^1 x^{n+2} e^{1-x^2} dx, n \in \mathbb{N}^*$

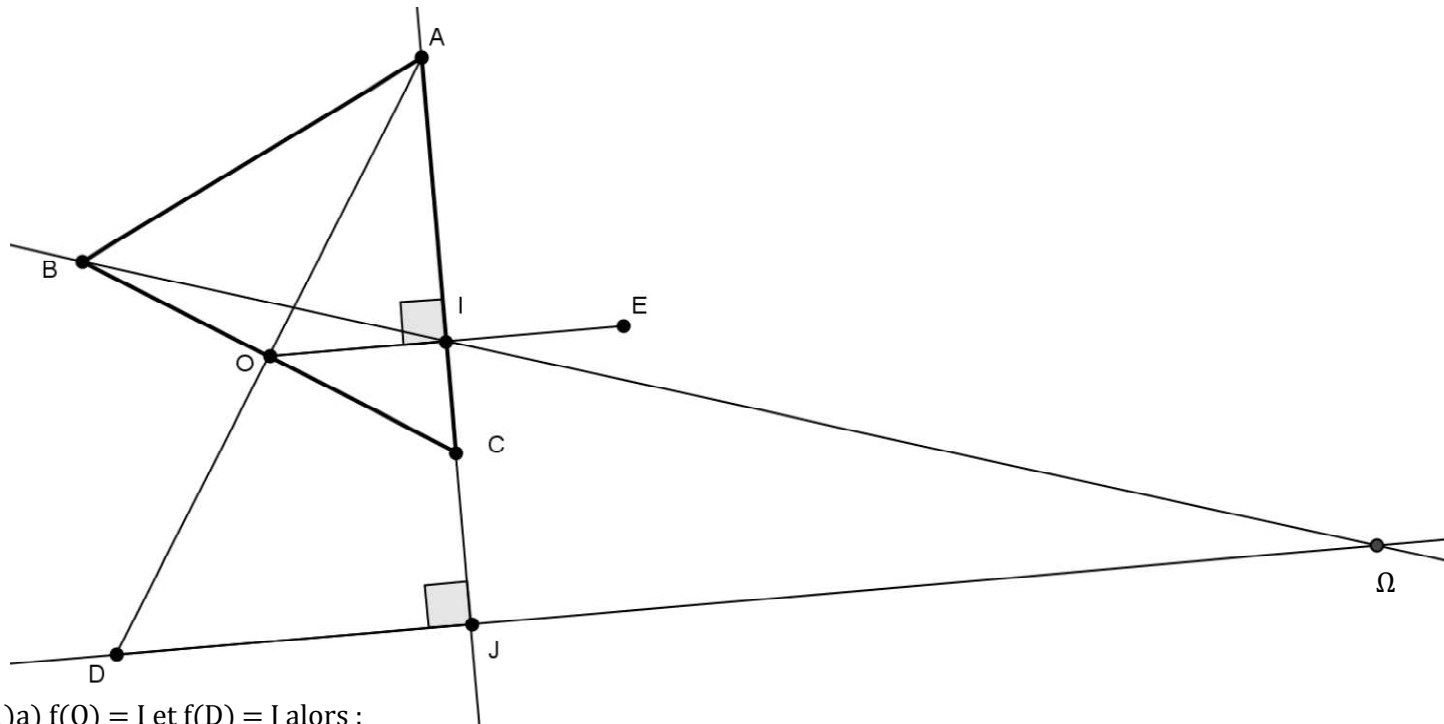
On pose: $u(x) = x^{n+1} \quad u'(x) = (n+1)x^n$
 $v'(x) = x e^{1-x^2} \quad v(x) = \frac{-1}{2} e^{1-x^2}$

Alors: $u_{n+2} = \left[\frac{-1}{2} x^{n+1} e^{1-x^2} \right]_0^1 + \frac{n+1}{2} \int_0^1 x^n e^{1-x^2} dx = \left(\frac{n+1}{2} \right) u_n - \frac{1}{2}, n \in \mathbb{N}^*.$

b) Soit \mathcal{A} l'aire du domaine limité par la courbe (C), l'axe des abscisses et les droites $x=0$ et $x=1$.

$\mathcal{A} = \int_0^1 f(x) dx = \int_0^1 x^3 e^{1-x^2} dx = u_3 = u_{1+2} = \frac{1+1}{2} u_1 - \frac{1}{2} = \frac{e-1}{2} - \frac{1}{2} = \frac{e-2}{2}$ (u.a).

Exercice 3



1) a) $f(O) = I$ et $f(D) = J$ alors :

f est de rapport $\frac{IJ}{OD} = \frac{AI}{AO} = \cos(\alpha)$ et d'angle $(\widehat{OD, IJ}) \equiv (\widehat{AO, AC}) \equiv \alpha [2\pi]$.

b) $(OI) \perp (AC)$ et $(DJ) \perp (AC)$ donc $(OI) \parallel (DJ)$

$$\text{on a : } \begin{cases} ADJ \text{ est rectangle en } J \\ O = A * D \\ (OI) \parallel (DJ) \\ I \in (A) \end{cases} \quad \text{donc} \quad I = A * J$$

$$O = A * D \Rightarrow f(O) = f(A) * f(D) \Rightarrow I = f(A) * J$$

En fin : $\begin{cases} I = f(A) * J \\ I = A * J \end{cases}$ donc $f(A) = A$ et par suite f est de centre A .

$$2) \text{ on a : } \begin{cases} \frac{AO}{AB} = \cos(\alpha) \\ (\widehat{AB, AO}) \equiv \alpha [2\pi] \end{cases} \quad \text{donc} \quad f(B) = O$$

$$O = B * C \Rightarrow f(O) = f(B) * f(C) \Rightarrow I = O * f(C)$$

$$\begin{cases} I = O * f(C) \\ I = O * E \end{cases} \quad \text{donc} \quad f(C) = E$$

3) $g(B) = O$ et $g(C) = E$ alors g est de rapport $\frac{OE}{BC} = \cos(\alpha)$ car $(f(B) = O \text{ et } f(C) = E \text{ donc } \frac{OE}{BC} = \cos(\alpha))$

$$O = B * C \Rightarrow g(O) = g(B) * g(C) = O * E = I.$$

4) a) $(S_{(OE)} \circ f)(B) = S_{(OE)}(O) = O$, $(S_{(OE)} \circ f)(C) = S_{(OE)}(E) = E$

$(S_{(OE)} \circ f)$ et g sont deux similitudes indirectes qui coïncident en deux points distincts B et C alors elles sont égales d'où $g = S_{(OE)} \circ f$.

b) $g(D) = (S_{(OE)} \circ f)(D) = S_{(OE)}(J)$

$O = A * D \Rightarrow f(O) = f(A) * f(D) \Rightarrow I = A * J$

on a : $\begin{cases} I = A * J \\ I = O * E \\ (OE) \perp (IJ) \end{cases}$ alors $S_{(OE)}(J) = A$, d'où $g(D) = A$.

$g(A) = (S_{(OE)} \circ f)(A) = S_{(OE)}(A) = J$

5)a) $(g \circ g)(D) = g(A) = J$, $g \circ g$ est l'homothétie de centre Ω et de rapport $\cos^2(\alpha)$ et $(g \circ g)(D) = J$ alors $\Omega \in (DJ)$

b) $(g \circ g)(B) = g(O) = I$ alors $\Omega \in (BI)$.

c) $\{\Omega\} = (DJ) \cap (BI)$.

Exercice4

(H): $x^2 - 4y^2 - 2x + 5 = 0$; (P): $4y^2 + 2x - 5 = 0$.

1)a) (H): $x^2 - 4y^2 - 2x + 5 = 0$

(H): $-\frac{(x-1)^2}{2^2} + y^2 = 1$, donc (H) est une hyperbole de centre $\Omega(1, 0)$.

Si M est un point de coordonnées (X, Y) dans le repère $(\Omega, \vec{i}, \vec{j})$ et de coordonnées (x, y) dans le repère (O, \vec{i}, \vec{j})

On a : $\begin{cases} X = x - 1 \\ Y = y \end{cases} \Leftrightarrow \begin{cases} x = X + 1 \\ y = Y \end{cases}$

<p><u>Dans le repère $(\Omega, \vec{i}, \vec{j})$</u> (H): $-\frac{X^2}{2^2} + Y^2 = 1$ Les sommets de (H) sont : S(0, 1) et S'(0, -1) Les foyers de (H) sont : F(0, $\sqrt{5}$) et F'(0, $-\sqrt{5}$) Les asymptotes de (H) sont : $\Delta_1: Y = \frac{1}{2}X$ et $\Delta_2: Y = -\frac{1}{2}X$</p>	<p><u>Dans le repère (O, \vec{i}, \vec{j})</u> (H): $-\frac{(x-1)^2}{2^2} + y^2 = 1$ Les sommets de (H) sont : S(1, 1) et S'(1, -1) Les foyers de (H) sont : F(1, $\sqrt{5}$) et F'(1, $-\sqrt{5}$) Les asymptotes de (H) sont : $\Delta_1: y = \frac{1}{2}x - \frac{1}{2}$ et $\Delta_2: y = -\frac{1}{2}x + \frac{1}{2}$</p>
--	---

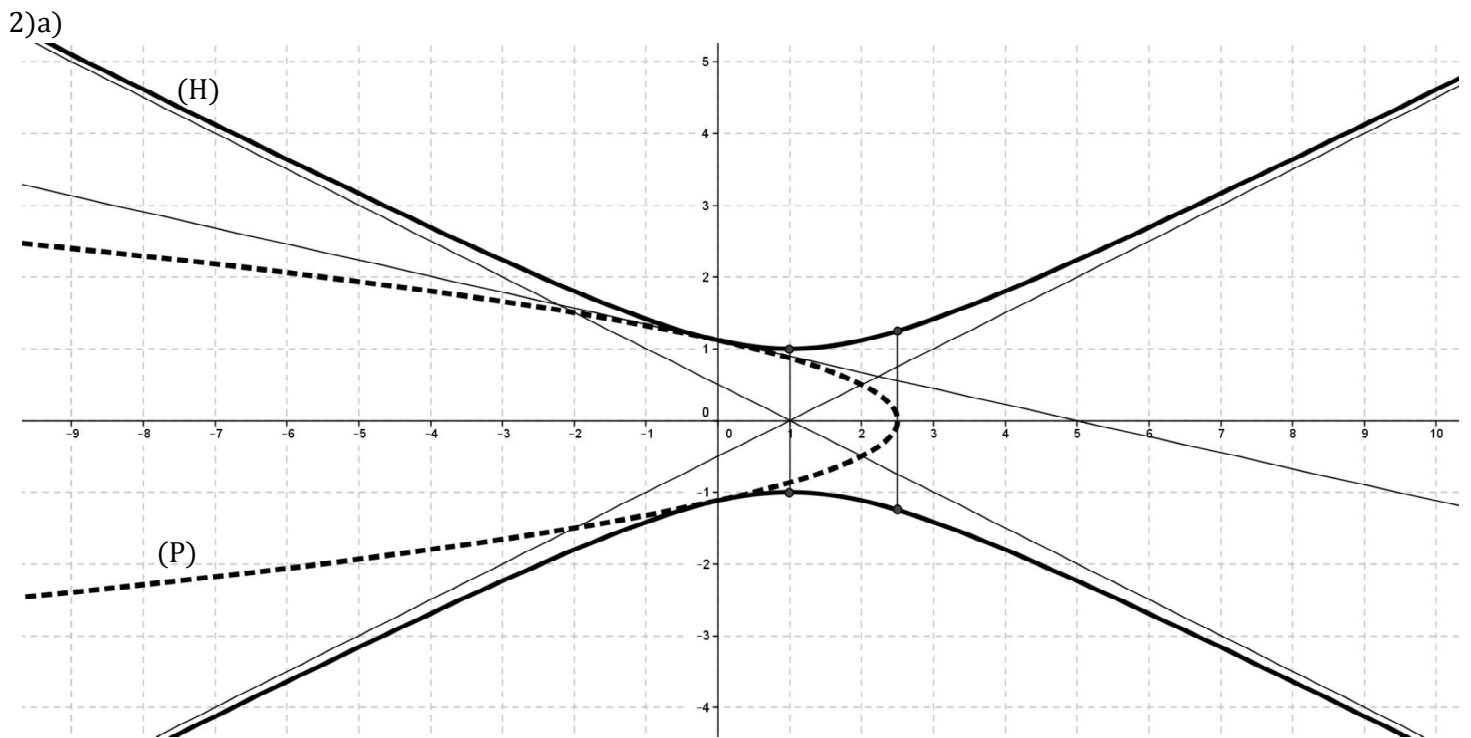
b) (P): $4y^2 + 2x - 5 = 0$

(P): $y^2 = -2 \times \frac{1}{4} \left(x - \frac{5}{2}\right)$, donc (P) est une parabole de sommet I $\left(\frac{5}{2}, 0\right)$ et de paramètre $\frac{1}{4}$.

Si M est un point de coordonnées (X, Y) dans le repère (I, \vec{i}, \vec{j}) et de coordonnées (x, y) dans le repère (O, \vec{i}, \vec{j})

On a : $\begin{cases} X = x - \frac{5}{2} \\ Y = y \end{cases} \Leftrightarrow \begin{cases} x = X + \frac{5}{2} \\ y = Y \end{cases}$

<p><u>Dans le repère (I, \vec{i}, \vec{j})</u> (P): $Y^2 = -2 \times \frac{1}{4} X$ (P) est de sommet I(0,0) (P) est de foyer $F_1\left(-\frac{1}{8}, 0\right)$ (P) est de directrice ; D: $X = \frac{1}{8}$</p>	<p><u>Dans le repère (O, \vec{i}, \vec{j})</u> (P): $y^2 = -2 \times \frac{1}{4} \left(x - \frac{5}{2}\right)$ (P) est de sommet I $\left(\frac{5}{2}, 0\right)$ (P) est de foyer $F_1\left(\frac{19}{8}, 0\right)$ (P) est de directrice ; D: $x = \frac{21}{8}$</p>
--	--



b) $A\left(0, \frac{\sqrt{5}}{2}\right)$, les coordonnées de A vérifient l'équation $x^2 - 4y^2 - 2x + 5 = 0$ donc $A \in (H)$

et les coordonnées de A vérifient l'équation $4y^2 + 2x - 5 = 0$ donc $A \in (P)$.

On désigne par T_H la tangente à (H) en A et T_P la tangente à (P) en A.

Dans le repère $(\Omega, \vec{i}, \vec{j})$, le point A est de coordonnées $\left(-1, \frac{\sqrt{5}}{2}\right)$.

Dans le repère $(\Omega, \vec{i}, \vec{j})$

$$T_H: -\frac{-X}{4} + \frac{\sqrt{5}}{2}Y = 1 \Rightarrow T_H: X + 2\sqrt{5}Y - 5 = 0$$

Dans le repère (O, \vec{i}, \vec{j})

$$T_H: x - 1 + 2\sqrt{5}y - 4 = 0 \Rightarrow T_H: x + 2\sqrt{5}y - 5 = 0 \text{ d'où } T_H = T$$

Dans le repère (I, \vec{i}, \vec{j}) , le point A est de coordonnées $\left(-\frac{5}{2}, \frac{\sqrt{5}}{2}\right)$.

Dans le repère (I, \vec{i}, \vec{j})

$$T_P: Y \times \frac{\sqrt{5}}{2} = -\frac{1}{4}\left(X - \frac{5}{2}\right) \Rightarrow T_H: X + 2\sqrt{5}Y - \frac{5}{2} = 0$$

Dans le repère (O, \vec{i}, \vec{j})

$$T_P: x - \frac{5}{2} + 2\sqrt{5}y - \frac{5}{2} = 0 \Rightarrow T_P: x + 2\sqrt{5}y - 5 = 0 \text{ d'où } T_P = T$$

$$3) F(x) = \int_1^{e^x - e^{-x} + 1} \sqrt{4 + (t-1)^2} dt, \quad x \geq 0$$

a) La fonction $x \mapsto e^x - e^{-x} + 1$ est dérivable sur $[0, +\infty[$ et de plus la fonction $t \mapsto \sqrt{4 + (t-1)^2}$ est continue sur \mathbb{R} alors F est dérivable sur $[0, +\infty[$.

$$F'(x) = \sqrt{4 + (e^x - e^{-x})^2} = (e^x + e^{-x})\sqrt{e^{2x} + e^{-2x} + 2} = (e^x + e^{-x})\sqrt{(e^x + e^{-x})^2} = (e^x + e^{-x})^2$$

$$b) F(0) = \int_1^1 \sqrt{4 + (t-1)^2} dt = 0$$

Soit $x \geq 0$, $F'(x) = (e^x + e^{-x})^2 = e^{2x} + e^{-2x} + 2$, alors pour tout $x \geq 0$ on a :

$$F(x) = \frac{1}{2}e^{2x} - \frac{1}{2}e^{-2x} + 2x + c, \text{ or } F(0) = 0 \text{ donc } \frac{1}{2} - \frac{1}{2} + c = 0 \Rightarrow c = 0$$

D'où pour tout $x \in [0, +\infty[$, $F(x) = \frac{1}{2}e^{2x} - \frac{1}{2}e^{-2x} + 2x$.

$$c) e^x - e^{-x} + 1 = \frac{5}{2}, \quad x \in \mathbb{R}, \text{ on pose : } t = e^x$$

$$e^x - e^{-x} + 1 = \frac{5}{2} \Leftrightarrow 2t^2 - 3t - 2 = 0 \Leftrightarrow t = 2 \text{ ou } t = \frac{-1}{2} < 0 \text{ impossible car } t = e^x > 0$$

$t = 2 \Leftrightarrow e^x = 2 \Leftrightarrow x = \ln(2)$ donc l'équation $e^x - e^{-x} + 1 = \frac{5}{2}$ admet une seule solution dans \mathbb{R} ,

qui est $x = \ln(2)$.

$$d) H: 4y^2 = x^2 - 2x + 5 \Leftrightarrow H: y^2 = \frac{1}{4}(x^2 - 2x + 5)$$

On pose $h(x) = \frac{1}{2}\sqrt{x^2 - 2x + 5}$, $x \in \mathbb{R}$; on a : $H = (C_h) \cup (C_{-h})$, (courbes de h et $-h$)

(C_h) et (C_{-h}) sont symétriques par rapport à l'axe (Ox) . Alors :

$$\mathcal{A} = 2 \int_1^{\frac{5}{2}} h(x) dx = \int_1^{\frac{5}{2}} \sqrt{x^2 - 2x + 5} dx = \int_1^{\frac{5}{2}} \sqrt{x^2 - 2x + 5} dx = F(\ln(2))$$

$$\mathcal{A} = \left[\frac{1}{2}e^{2\ln(2)} - \frac{1}{2}e^{-2\ln(2)} + 2\ln(2) \right] = \frac{4}{2} - \frac{1}{2} \times \frac{1}{4} + 2\ln(2) = \frac{15}{8} + 2\ln(2) \quad (\text{u. a})$$