

# LES BESOINS

## Exercice n° 1.

Retrouvez le terme relatif à chaque proposition :

- .....qui est un besoin économique dont la satisfaction est nécessaire à la survie. Exemple.....
- .....qui est un besoin économique dépendant de la société ou du groupe social dans lequel l'individu évolue. Exemple.....
- Les besoins..... sont ressentis au niveau d'une personne et peuvent être satisfaits par une consommation individuelle. Exemple.....
- Les besoins..... sont ressentis et pris en charge par la collectivité. Exemple.....
- Les besoins primaires sont des besoins..... Ils sont dits aussi besoins.....
- Les besoins de civilisation sont des besoins..... Ils sont dits aussi besoins.....

## Exercice n° 2.

Répondez par « Vrai » ou « Faux » puis corrigez les propositions erronées :

- Respirer est un besoin économique.
- Les besoins ne varient pas dans le temps.
- Boire est un besoin secondaire.
- Faire une promenade dans la ville est un besoin économique.
- Nager dans une piscine d'un hôtel est un besoin libre.
- Les besoins fondamentaux évoluent en fonction du progrès technique.
- Jouer avec une voiture téléguidée et acheter des piles sont deux besoins complémentaires.
- Visiter un musée ou assister à un match de foot sont deux besoins concurrents.
- Les besoins sont illimités en nombre.
- Tous les besoins sont économiques.

# LES BIENS

## Exercice n° 1.

Corrigez les phrases suivantes :

- Un bien immatériel est un bien visible.
- Un bien économique peut se transformer en bien libre.
- L'eau d'une rivière est un bien économique.
- La consultation d'un médecin est un bien libre.
- Un service est un bien matériel.

## Exercice n° 2.

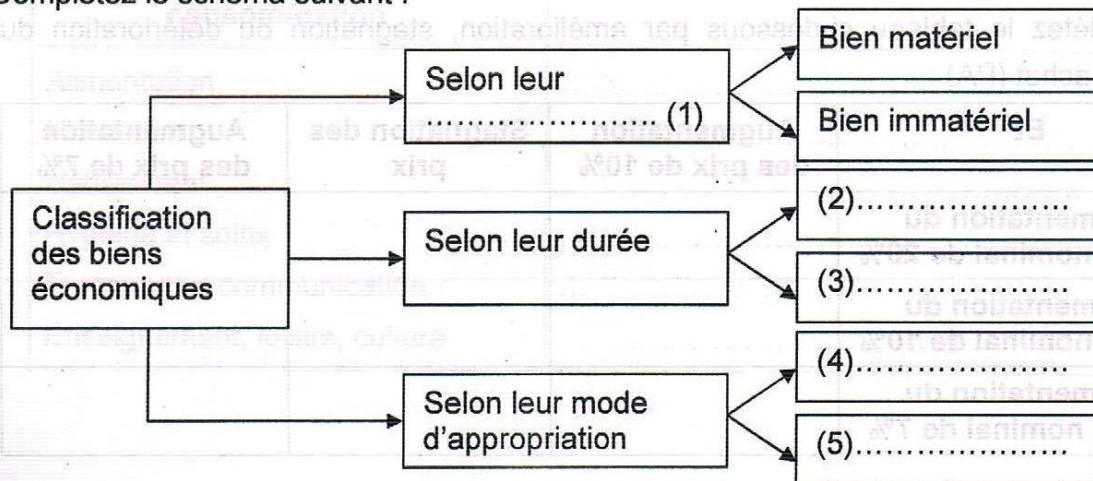
Soient les biens suivants : le cartable, le soleil, l'eau de robinet, l'air à respirer, la consultation juridique, la terre, le pain, le pétrole d'un gisement.

Classez ces biens dans le tableau suivant puis distinguez biens économiques et biens libres.

Biens économiques	Biens libres
.....	.....
.....	.....
.....	.....
.....	.....
.....	.....

### Exercice n° 3.

Complétez le schéma suivant :



# CORRECTION

## Chapitre 1 : Les besoins

### Exercice n°1.

1. Le besoin primaire ; se nourrir
2. Le besoin secondaire ; voyager
3. individuels ; écouter la musique
4. collectifs ; besoin de sécurité
5. vitaux ; physiologiques
6. sociaux ; secondaires

### Exercice n°2.

1. Faux : Respirer est un besoin non économique.(ou besoin libre)
2. Faux : Les besoins varient dans le temps.
3. Faux : Boire est un besoin primaire.
4. Vrai.
5. Faux : Nager dans une piscine d'un hôtel est un besoin économique.
6. Faux : Les besoins sociaux évoluent en fonction du progrès technique.
7. Vrai.
8. Vrai.
9. Vrai.
10. Faux : Les besoins sont économiques et non économiques.

## Chapitre 2 : Les biens

### Exercice n°1.

1. Un bien matériel est un bien visible.
2. Un bien libre peut se transformer en bien économique.
3. L'eau d'une rivière est un bien non économique.
4. La consultation d'un médecin est un bien économique.
5. Un service est un bien immatériel.

### Exercice n°2.

<b>Biens économiques</b>
le cartable, l'eau de robinet, la consultation juridique, le pain, le pétrole d'un gisement.
⇓
* Un bien économique est une richesse disponible existant en quantité limitée et qui permet la satisfaction d'un besoin. * Un bien économique est à la fois utile, disponible et rare.
<b>Biens libres</b>
le soleil, l'air à respirer, la terre.
⇓
* Un bien libre est un bien disponible gratuitement existant en quantité illimitée sans effort particulier. * Un bien libre est utile disponible et surabondant.

### Exercice n°3.

- (1) selon leur nature      (2) bien durable      (3) bien non durable  
(4) bien privé              (5) bien public

# CHAPITRE 03 : LES REVENUES

## Exercice n° 1.

Remplissez le tableau suivant :

Bénéficiaire du revenu	Nom du revenu	Revenu du travail	Revenu du capital	Revenu mixte	Revenu du transfert
Militaire					
Titulaire d'un compte d'épargne					
Commerçant					
Médecin libéral					
Ouvrier					
Artisan fleuriste					
Propriétaire d'appartements					
Médecin dans un hôpital					
Agriculteur exploitant					
Retraité					
Etudiant dans une université					

## Exercice n° 2.

Complétez le tableau ci-dessous par amélioration, stagnation ou détérioration du pouvoir d'achat (PA) :

Et	Augmentation des prix de 10%	Stagnation des prix	Augmentation des prix de 7%
Augmentation du revenu nominal de 20%			
Augmentation du revenu nominal de 10%			
Augmentation du revenu nominal de 7%			

## Exercice n° 3.

1. Comparez intérêt et loyer.
2. Distinguez revenu et salaire.
3. Distinguez salaire nominal et salaire réel.

## Exercice n°1.

Bénéficiaire du revenu	nom du revenu	Revenu du travail	Revenu du capital	Revenu mixte	Revenu du transfert
Militaire	solde	x			
Titulaire d'un compte d'épargne	intérêt		x		
Commerçant	profit			x	
Médecin libéral	honoraire			x	
Ouvrier	salaire	x			
Artisan fleuriste	bénéfice			x	
Propriétaire d'appartements	loyer		x		
Médecin dans l'hôpital	traitement	x			
Agriculteur exploitant	bénéfice			x	
Retraité	pension de retraite				x
Etudiant dans une université	bourse				x

## Exercice n°2.

Et	Augmentation des prix de 10%	Stagnation des prix	Augmentation des prix de 7%
Augmentation du revenu nominal de 20%	Amélioration du PA.	Amélioration du PA.	Amélioration du PA.
Augmentation du revenu nominal de 10%	Stagnation du PA.	Amélioration du PA.	Amélioration du PA.
Augmentation du revenu nominal de 7%	Détérioration du PA.	Amélioration du PA.	Stagnation du PA.

## Exercice n°3.

1.

	Intérêt	Loyer
Ressemblances	Ce sont les revenus du capital	
Différences	C'est le revenu du capital monétaire c'est-à-dire de la monnaie épargnée ou prêtée.	C'est le revenu du capital foncier (une terre) ou d'un immobilier (un immeuble)

2.

Salaire	Revenu
C'est un revenu	Le revenu n'est pas nécessairement un salaire.
C'est le revenu perçu en contre partie d'un travail	C'est l'ensemble des prestations perçues par un agent économique.

3.

Salaire nominal	Salaire réel
C'est la quantité de monnaie que perçoit un travailleur.	C'est la quantité des biens et services que peut acquérir le travailleur à l'aide de son salaire nominal.
Il ne dépend pas des prix.	Il dépend des prix de biens et services sur le marché et du salaire nominal.

# CHAPITRE 04 : LA CONSOMMATION

## Exercice n° 1.

Classez les différents achats suivants dans les 6 rubriques de dépenses fournies ci-dessous:

- |  |  |
|--|--|
| 1- Achat de pain                               | 9- Paiement d'une consommation dans un café    |
| 2-Achat de produits de maquillage              | 10- Règlement de la facture d'eau              |
| 3-Paiement d'un ticket de bus                  | 11- Paiement de loyer                          |
| 4-Achat de fruits et de légumes                | 12- Achat de produits et articles de nettoyage |
| 5- Billet de cinéma                            | 13- S'inscrire à l'université                  |
| 6- Prendre un taxi                             | 14- Achat de vêtements                         |
| 7- Achat d'une moto                            | 15- Frais de communications téléphoniques      |
| 8-Achat d'articles et de spectacles de plaisir | 16- Achat de produits de toilettes             |

Les rubriques de consommation	Achats
Alimentation	.....
Habitation	.....
Habillement	.....
Hygiène et soins	.....
Transport et communication	.....
Enseignement, loisirs, culture	.....

## Exercice n° 2.

	2000		2001	
	R	C	R	C
	1000	600	1500	?
PMC	?		<u>0,7</u>	
PmC	?			

Source : Exemple fictif

- Définissez la PMC et la PmC.
- Complétez le tableau puis interprétez le chiffre souligné.

**Exercice n° 3.**

Reliez par des flèches les expressions qui ont le même sens.

Consommation	Mode de consommation
Structure de consommation	C'est la part de l'accroissement du revenu consacrée à l'augmentation de la consommation.
Coefficient budgétaire	Destruction immédiate ou progressive de biens et services.
Autoconsommation	La part d'une rubrique de consommation dans le budget.
Propension marginale à consommer	Consommation de biens produits par le consommateur lui-même.

**Exercice n° 4.**

- Définissez la consommation des ménages.
- Répondez par « Vrai » ou « Faux » selon que les achats suivants conduisent ou non à une consommation.

	Vrai	Faux
L'achat d'un billet de cinéma		
L'achat d'une robe		
L'achat d'une voiture par l'entreprise		
L'achat d'un logement		

## Exercice n°1.

Les rubriques de consommation	Achats
Alimentation	1-4
Habitation	10-11
Habillement	14
Hygiène et soins	2-12-16
Transport et communication	3-6-7-15
Enseignement, loisirs, culture	5-8-9-13

## Exercice n°2.

- a) - PMC : Part des dépenses de consommation dans le revenu.  
 - PmC : Part de l'accroissement du revenu consacrée à l'augmentation de la consommation.

b) En 2000

$$PMC = \frac{C}{R} = \frac{600}{1000} = 0,6 \Rightarrow PMC \text{ en } \% = 60\%$$

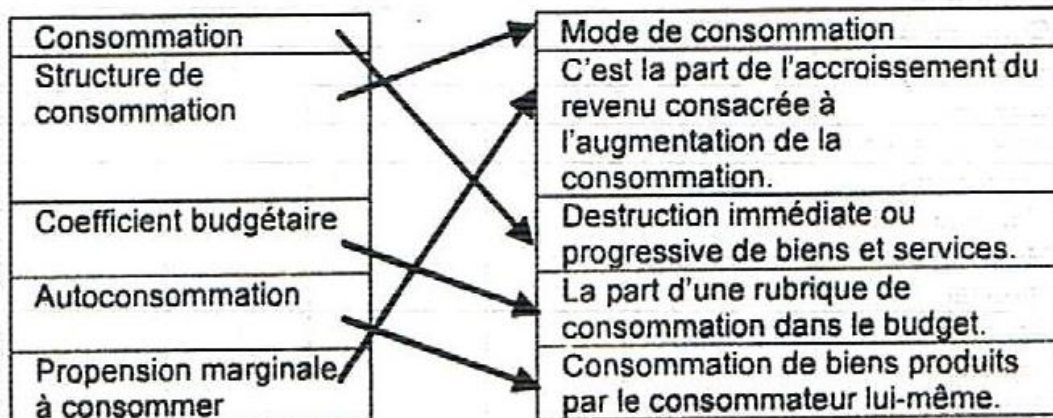
En 2001

$$PMC = \frac{C}{R} \Rightarrow C = PMC \times R = 0,7 \times 1500 = 1050$$

$$PmC = \frac{\Delta C}{\Delta R} = \frac{1050 - 600}{1500 - 1000} = \frac{450}{500} = 0,9$$

PMC=0,7 => PMC=70% de l'accroissement du revenu sont consacrée à l'augmentation de la consommation.

## Exercice n°3.



## Exercice n°4.

1. La consommation : Destruction immédiate ou progressive de biens ou services afin de satisfaire directement un besoin.

2.

	Vrai	Faux
L'achat d'un billet de cinéma	x	
L'achat d'une robe	x	
L'achat d'une voiture par l'entreprise		x
L'achat d'un logement		x



## Chapitre 05 : L'épargne

### Exercice n° 1.

Cochez la ou les bonne(s) réponse(s) :

1. La progression marginale à épargner est :

- a) égale à  $1-PMC$
- b) la part de l'accroissement du revenu pour accroître l'épargne.
- c) le rapport entre la variation de l'épargne et la variation du revenu.

2. L'épargne est :

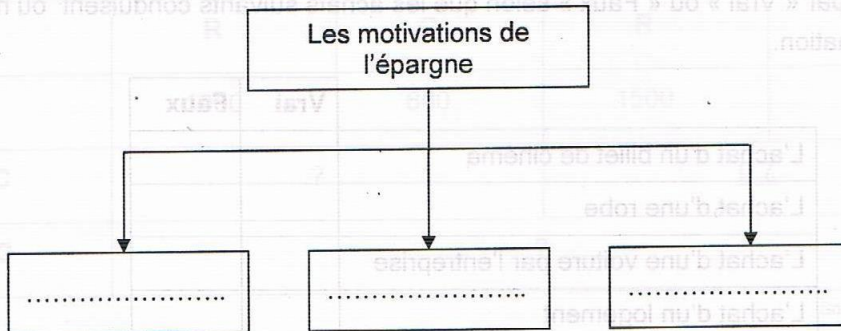
- a) la différence entre la consommation et le revenu.
- b) le rapport entre la consommation et le revenu.
- c) la différence entre le revenu et la consommation.

3. La propension moyenne à épargner est :

- a) la part du revenu épargnée.
- b) la part du revenu consommée.
- c) le rapport entre l'épargne et la consommation.

### Exercice n° 2.

Complétez le schéma suivant :



### Exercice n° 3.

	2000	2007
Epargne	350	?
Revenu	500	?
Propension moyenne à épargner (PMS)	?	?
Propension marginale à épargner (PmS)		?

Complétez le tableau ci-dessus sachant que le revenu en 2007 a augmenté de 50% dont les  $\frac{2}{5}$  sont affectés à la consommation.

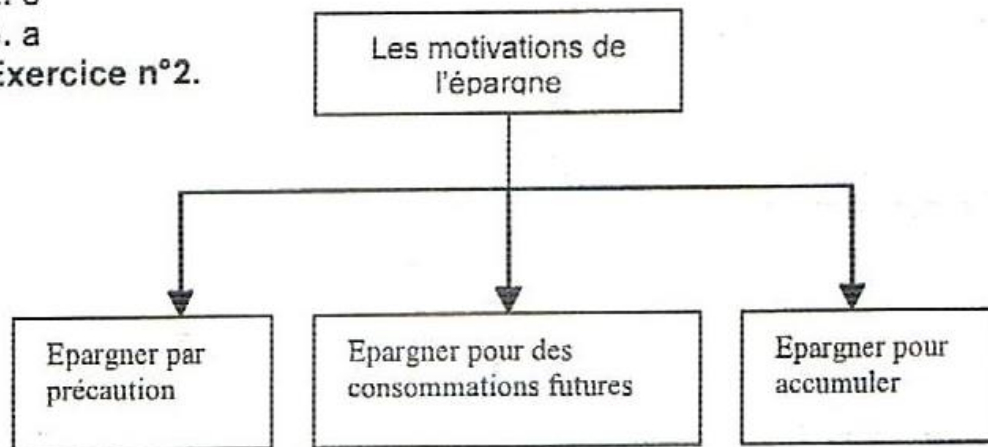
## Chapitre 5 : L'épargne

## CORRECTION

Exercice n°1.

1. b - c
2. c
3. a

Exercice n°2.



Exercice n°3.

En 2000 :

$$PMS = \frac{350}{500} = 0,7 \Rightarrow PMS \text{ en } \% = 0,7 \times 100 = 70\%$$

En 2007 :

$$R_{07} = (1 + 0,5)R_{00} = (1,5) \times 500 = 750$$

$$C_{07} = \frac{2}{5}R_{07}$$

$$C_{07} = \frac{2}{5} \times 750 = 300$$

$$S_{07} = R_{07} - C_{07} = 750 - 300 = 450$$

$$PMS = \frac{S}{R} = \frac{450}{750} = 0,6 \Rightarrow PMS \text{ en } \% = 60\%$$

$$PmS = \frac{\Delta S}{\Delta R} = \frac{450 - 350}{750 - 500} = \frac{100}{250} = 0,4 \Rightarrow PmS \text{ en } \% = 40\%$$